

## СОДЕРЖАНИЕ

Методические указания к выполнению контрольных работ и самостоятельной работе студентов

Образец оформления титульного листа контрольной работы

Контрольная работа № 1 для студентов 1 курса

Контрольная работа № 2 для студентов 1 курса

Контрольная работа № 1 для студентов групп ускоренного обучения

Контрольная работа № 2 для студентов групп ускоренного обучения

## МЕТОДИЧЕСКИЕ УКАЗАНИЯ

### к выполнению контрольных работ и самостоятельной работе студентов

Подбор варианта контрольной работы осуществляется в соответствии с индивидуальным шифром студента заочного отделения. Последняя цифра шифра соответствует номеру варианта. Например, если у студента шифр 11016, то он должен делать задания шестого варианта, если шифр 9900-выполняются контрольные задания десятого варианта.

По дисциплине «Политическая экономия» студенты первого курса и второго курса ускоренного обучения выполняют две контрольные работы.

Тематика контрольных заданий для студентов первого курса отделена от аналогичных заданий для студентов второго курса ускоренного обучения соответствующей рубрикой: «КОНТРОЛЬНАЯ РАБОТА № 1 ДЛЯ СТУДЕНТОВ 1 КУРСА» и т.п. При выполнении контрольной работы следует обратить внимание на то, под какой рубрикой содержится тематика выполняемых заданий. Контрольные работы, выполненные не по своему варианту или по заданиям, предназначенным для других групп, не принимаются к защите.

В состав заданий каждой контрольной работы по курсу политической экономии включены 7 заданий:

- первое задание - определения (всего 5 определений в каждом варианте);
- второе задание - изложение одного теоретического вопроса;
- третье задание - упражнение;
- четвертое задание - задача;
- пятое задание – задача;

- шестое задание – сложная задача;
- седьмое задание – тесты (всего 5 тестов в каждом варианте).

Кроме того, в конце перечня контрольных заданий каждого варианта приведены списки литературы для изложения теоретического вопроса (второго задания).

Для выполнения **первого задания** можно использовать экономические словари, опубликованный конспект лекций по дисциплине «Политическая экономия», учебники, в конце которых содержатся глоссарии, другие издания, систематизирующие понятия. Так, например, многие определения можно найти в экономической энциклопедии (тома 1-4), книге делового человека; глоссарии, содержащемся в конце 2-го тома учебника К. Макконнелла и С. Брю «Экономикс». При выполнении первого задания следует только привести определение (одно или несколько); расшифровки и детализации понятий делать не нужно.

Выполняя **второе задание**, необходимо вначале составить план ответа, а затем максимально подробно раскрыть содержание вопроса. Текст реферативной части задания должен содержать все необходимые определения, формулы, законы, выводы по рассматриваемой проблеме. В конце ответа на вопрос нужно привести полный список используемой литературы.

При выполнении **третьего задания** - упражнения - целесообразно составить таблицу или таблицы данных и построить соответствующие графики. Примеры выполнения упражнений содержатся в методических пояснениях и примерах решения типовых задач в конце первой и второй частей практикумов по дисциплине «Политическая экономия».

При выполнении **четвертого и пятого заданий** необходимо кратко (если это возможно - соответствующими обозначениями) записать условие и привести решение в полном объеме со всеми необходимыми объяснениями. Примеры решения типовых задач содержатся в обеих частях практикумов по

политической экономии.

**Шестое задание** – сложная задача. Для ее решения необходимо привести все необходимые формулы, а алгоритм решения представить, как правило, в виде таблицы. После решения задачи необходимо дать полный ответ на все ее вопросы.

**Седьмое задание** – тестовое. На каждый тест нужно дать только один правильный ответ. Полезно было бы переписать в контрольную работу все тестовые вопросы и ответы на них, выделив правильный ответ. Тестовые задания обычно разбираются на семинарских занятиях. Ответы на отдельные тесты можно найти в следующих практических пособиях:

- Микро-, макроэкономика. Практикум. /Под общей редакцией Ю. А. Огибина. – СПб.: «Литера плюс», «Санкт-Петербург оркестр», 1994.

- Экономическая теория. Задачи, логические схемы, методические материалы. /Под редакцией А. И. Добрынина, Л. С. Тарасевича: Учебник для вузов. – СПб: Питер Ком, 1999.

Вместе с тем, большая часть тестовых заданий содержится только в первой и второй частях практикума по политической экономии. Некоторые тесты даны на определения, поэтому ответы на них можно найти в конспекте лекций. Более сложные задания требуют размышления, а значит, глубокого понимания характера действия экономических законов, знания экономических закономерностей. Чтобы правильно ответить на такие тесты, необходимо хорошо изучить соответствующие разделы учебного курса.

Порядок выполнения контрольной работы задан тематикой контрольных заданий. Для того, чтобы успешно справиться с практическими заданиями, необходимо вначале хорошо изучить соответствующие разделы учебного курса, усвоить все необходимые формулы, просмотреть примеры решения типовых задач, а затем приступить к решению задачи своего варианта.

Каждая контрольная работа выполняется в отдельной тетради, содержащей 18 листов, или машинописным способом, или компьютерным

набором на жестко скрепленных листах.

Контрольная работа должна быть оформлена аккуратно, без помарок: каждое следующее задание нужно отделить от предыдущего, должны быть проставлены номера заданий, не разрешается писать в каждой клеточке.

На титульном листе обязательно надо указать номер контрольной работы, название дисциплины, фамилию, имя, отчество, группу и шифр студента (смотри Приложение А).

# КОНТРОЛЬНАЯ РАБОТА № 1 ДЛЯ СТУДЕНТОВ

## 1 КУРСА

### Вариант 1

**Задание 1. Определите категории:** собственность, потребительная стоимость, закон Грэшема, аренда, привилегированная акция.

**Задание 2. Теоретический вопрос.** Зарождение и развитие экономических знаний. Предмет экономической теории. Система экономических законов.

**Задание 3. Упражнение.** Постройте кривую производственных возможностей экономики острова, на котором 5 человек собирают ежедневно или 400 килограмм бананов, или 200 килограмм ананасов. Как сдвинется кривая производственных возможностей экономики, если на остров будет завезена техника, позволяющая собирать ежедневно 560 килограмм бананов?

**Задание 4. Задача.** Чтобы произвести единицу товара, одна группа товаропроизводителей затрачивает для ее производства-1, вторая-2, третья-3 часа. Определите общественно-необходимое время на производство товара, если известно, что 1-я группа изготовила- 20, 2-я - 320, 3-я - 60 единиц товара. Каково социально-экономическое положение каждой группы товаропроизводителей?

**Задание 5. Задача.** В течение года сумма продаж составила 100 млрд. долларов, из них сделки в кредит - 20 млрд. долларов, сумма платежей по которым наступил срок уплаты - 15 млрд. Определите количество денег, необходимое для обращения, если каждый доллар обслуживает в течении года 10 товарных сделок. Как изменится количество денег, необходимое для обращения, если число оборотов денег сократится на 30%?

**Задание 6. Сложная задача.** Уставный капитал открытого акционерного общества состоит из 400000 обыкновенных акций номиналом

20 долларов; 2000 многоголосых акций номиналом 50 долларов (каждая акция дает 5 голосов на общем собрании акционеров) и 100000 привилегированных акций номиналом 10 долларов. Определите, на какую сумму нужно приобрести акции, чтобы обеспечить безусловный контроль над капиталом акционерного общества? Сколько процентов составляет контрольный пакет акций?

### **Задание 7. Тесты**

1 Альтернативные издержки нового стадиона - это:

- а) оплата его персонала и охраны;
- б) цена строительства стадиона в будущем году;
- в) цена других товаров и услуг, производство которых принесено в жертву строительству этого стадиона;
- г) изменение реальной ставки налога, которая выплачивается из дохода стадиона.

2 Предприятие выпускает 5% продукции данной отрасли. Что произойдет с индивидуальной и общественной стоимостью товара, если производительность труда на этом предприятии повысится в 2 раза?

- а) индивидуальная стоимость останется неизменной, общественная понизится;
- б) индивидуальная и общественная стоимость понизятся;
- в) индивидуальная стоимость понизится, общественная останется неизменной;
- г) индивидуальная и общественная стоимость останутся неизменными.

3 В какой функции выступают деньги при составлении ценников, преискурантов?

- а) мера стоимости;
- б) средство обращения;
- в) средство накопления и образования сокровищ;
- г) средство платежа;

д) всемирные деньги.

4 В настоящее время функцию мировых денег выполняют:

а) золотые слитки;

б) золотые монеты;

в) резервные валюты;

г) все предыдущие ответы неверны.

5 Существование государственной собственности обусловлено:

а) наличием капиталоемких и неприбыльных отраслей;

б) необходимостью решения общенациональных и социальных задач, поддержания уровня жизни населения;

в) стремлением увеличить государственные доходы;

г) все предыдущие ответы верны.

### **Литература ко второму вопросу**

1 Курс экономической теории/ Под ред. М.Н. Чепурина, Е. А. Киселевой.- Киров, 1994.-С.24-44.

2 Макконнелл К., Брю С. Экономикс.-Т.1.-М.:Республика, 1992.- С.18-22, 24-34, 47-48.

3 Конспект лекций по курсу «Политическая экономия» для студентов экономических специальностей академии/ Сост. О. К. Гаршина. – Краматорск: ДГМА; ЗАО «НКМЗ», 2000. – С. 5-7, 8-9.

### **Вариант 2**

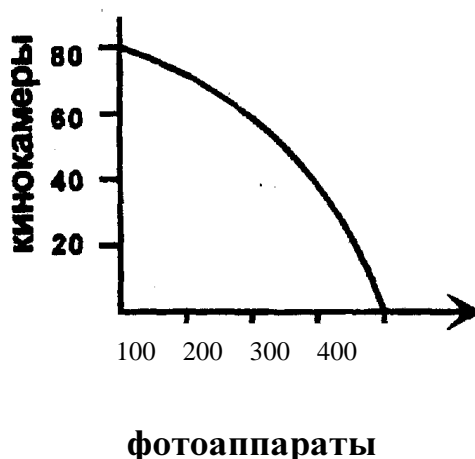
**Задание 1. Определите категории:** экономика, холдинг, редукция труда, масштаб цен, простая акция.

**Задание 2. Теоретический вопрос.** Марксистская классификация факторов общественного производства. Современные экономисты о классификации экономических ресурсов.



**Задание 3. Упражнение.** Кривая производственных возможностей экономики включает два товара: фотоаппараты и кинокамеры. Найдите точки на графике для следующих комбинаций производства двух товаров и определите эффективный, неэффективный и невозможный варианты производства:

- а) 60 кинокамер и 200 фотоаппаратов;
- б) 60 фотоаппаратов и 80 кинокамер;
- в) 300 фотоаппаратов и 35 кинокамер;
- г) 300 фотоаппаратов и 40 кинокамер;
- д) 58 фотоаппаратов и 250 кинокамер.



**Задание 4. Задача.** В 1947 году 1 фунт стерлингов Великобритании обменивался на 4 доллара США. Масштаб цен США составлял 0,888 грамм золота. Определите масштаб цен Великобритании. Как изменится валютный курс фунта к доллару после девальвации доллара на 10%?

**Задание 5. Задача.** Предположим, что за один час создается стоимость в 2 доллара. Дневная стоимость рабочей силы в результате роста производительности труда понизилась с 10 до 8 долларов. Следует узнать необходимое рабочее время до и после повышения производительности труда.

**Задание 6 Сложная задача.** Рассчитайте размер арендной платы для сложного имущественного комплекса стоимостью 200 млн. долл., 40% стоимости которого составляют новые фонды; 60% стоимости объекта приходится на фонды средней степени износа. Амортизационные отчисления составляют 20% стоимости объекта, арендный процент – 4%,  $K_0=0,6$ ,  $K_3=0,7$ .

### **Задание 7. Тесты**

1 Если в экономике действует закон возрастающих вмененных издержек, то для поддержания ее роста необходимы:

- а) пропорциональный рост всех факторов производства;
- б) рост некоторых факторов производства, при неизменном объеме хотя бы одного производственного ресурса;
- в) рост объема только одного фактора производства (при неизменном объеме остальных факторов);
- г) пропорциональный рост объема всех факторов производства (в натуральном выражении) при снижении цены дополнительной единицы продукции.

2 Предприятие выпускает 90% продукции отрасли. Что произойдет с индивидуальной и общественной стоимостью товара, если производительность труда на этом предприятии повысится?

- а) индивидуальная стоимость понизится, общественная останется без изменения;
- б) индивидуальная и общественная стоимости понизятся;
- в) индивидуальная стоимость останется без изменений, общественная понизится;
- г) индивидуальная и общественная стоимости повысятся.

3 Какое из перечисленных положений не имеет отношения к определению предмета экономической теории?

- а) эффективное использование ресурсов;
- б) неограниченные производственные ресурсы;

в) максимальное удовлетворение потребностей.

4 Товар – это:

а) вещь, обладающая потребительной стоимостью или полезностью;

б) вещь, являющаяся продуктом человеческого труда;

в) вещь, обмениваемая на другую вещь или деньги;

г) благо, не являющееся продуктом труда, но полезное человеку.

5 Высшим органом управления акционерного общества является:

а) совет директоров;

б) собрание уполномоченных;

в) общее собрание акционеров;

г) собрание держателей привилегированных акций.

### **Литература ко второму вопросу**

1 Конспект лекций по курсу «Политическая экономия» для студентов экономических специальностей академии/ Сост. О. К. Гаршина. – Краматорск: ДГМА; ЗАО «НКМЗ», 2000. –С. 11-13.

2 Современная экономика. Многоуровневое учебное пособие /Под ред. О. Ю. Мамедова. – Ростов-на-Дону: «Феникс», 1997. – С. 36-39.

3 Р. М. Нуреев. Курс микроэкономики. Учебник для вузов. – 2-е изд., изм. – М.: НОРМА (Издательская группа НОРМА– ИНФРА М), 2000. - С 46.

### **Вариант 3**

**Задание 1. Определите категории:** экономический закон, владение, абстрактный труд, деньги, рабочая акционерная собственность.

**Задание 2. Теоретический вопрос.** Проблема эффективности использования ресурсов. Кривая производственных возможностей экономики. Закон возрастающих вмененных издержек.

**Задание 3. Упражнение.** Дана таблица производственных

возможностей выпуска сыра и тракторов. Начертите линию производственных возможностей. Определите альтернативные издержки на производство второй и четвертой единиц сыра, а также общие издержки на производство трех единиц сыра.

Варианты	Сыр (тыс.)	Тракторы (штуки)	Альтернативные издержки
А	0	10	
Б	1	9	
В	2	7	
Г	3	4	
Д	4	0	

**Задание 4. Задача.** Определенные товары изготавливаются на четырех предприятиях отрасли. Индивидуальные затраты на изготовление единицы товара составляют соответственно 3, 4, 5, 6 часов, а доля предприятий в производстве данного товара составляет соответственно 20%, 30%, 40%, 10%. Определите общественно необходимое время на производство товара и экономическое положение каждой группы производителей.

**Задание 5. Задача.** Как изменились цены японских автомобилей в США, если курс иены вырос с 250 до 130 иен за доллар?

**Задание 6. Сложная задача.** Первоначально рабочий день составлял 8 часов, причем прибавочное время на 1 час меньше необходимого. Один час труда создает стоимость в 5 долларов. Капиталисту удалось за счет повышения интенсивности труда получить дополнительно 6 долларов. На сколько процентов возросла норма прибавочной стоимости?

### Задание 7 Тесты

1 Фермер, который использует неэффективные методы производства:

- а) безработный;

- б) частично безработный;
- в) относится к числу занятых;
- г) все предыдущие ответы неверны.

2 Из приведенных черт укажите ту, которая не присуща капиталистическому товарному производству:

- а) всеобщий характер товарного производства;
- б) товарное производство носит ограниченный характер;
- в) товарное производство основано на государственной и частной собственности на средства производства;
- г) цель товарного производства - максимум дохода на одного занятого.

3 В какой функции выступают деньги при использовании безналичных платежей за товары и услуги?

- а) мера стоимости;
- б) средство обращения;
- в) средство накопления и образования сокровищ;
- г) средство платежа;
- д) всемирные деньги

4 Документ, в котором поименованы все владельцы акций компании, называется:

- а) реестром;
- б) уставом;
- в) сертификатом;
- г) ни одним из вышеперечисленных документов.

5 С увеличением количества единиц блага, имеющегося в распоряжении потребителя, общая полезность этого блага:

- а) уменьшается;
- б) возрастает;
- в) остается неизменной;
- г) все ответы неверны.

### Литература ко второму вопросу

- 1 Макконнелл К., Брю С. Экономикс.-Т.1.-М.:Республика, 1992.- С.36-45.
- 2 Современная экономика. Многоуровневое учебное пособие /Под ред. О. Ю. Мамедова. – Ростов-на-Дону: «Феникс», 1997. – С. 44-58.
- 3 Р. М. Нуреев. Курс микроэкономики. Учебник для вузов. – 2-е изд., изм. – М.: НОРМА (Издательская группа НОРМА– ИНФРА М), 2000. - С 47-50.
- 4 Конспект лекций по курсу «Политическая экономия» для студентов экономических специальностей академии/ Сост. О. К. Гаршина. – Краматорск: ДГМА; ЗАО «НКМЗ», 2000. –С. 14-16.

### Вариант 4

**Задание 1. Определите категории:** предмет экономической теории, рабочая сила, вексель, общество с дополнительной ответственностью, «система участия».

**Задание 2. Теоретический вопрос.** Основные черты товарного хозяйства, его исторические типы. Сравнительная характеристика капиталистического и социализированного товарных хозяйств.

**Задание 3. Упражнение.** Цена товара-200 грамм золота. Как изменится цена товара, если:

- а) стоимость товара понизится вдвое;
- б) стоимость денег понизится вдвое;
- в) спрос на товар вырастет в четыре раза.

Какой будет цена товара после каждого из этих изменений?

**Задание 4. Задача.** Сумма цен проданных товаров- 40 млрд. золотых долларов, продано в кредит товаров на сумму 400 млн. долл. золотом, сумма платежей- 600 млн. золотых долл., сумма взаимно погашающихся платежей - 280 млн. долл. золотом, среднее число оборотов одного доллара -10. Сколько останется в обращении золотых долларов, если правительство выпустит в обращение 3 млрд. бумажных долларов?

**Задание 5. Задача.** Пусть постоянный капитал составляет 200 ед, вновь созданная стоимость – 150 ед., переменный капитал – 50 ед. Подсчитайте:

- стоимость товара;
- прибавочную стоимость;
- норму прибавочной стоимости.

**Задание 6. Сложная задача.** Капитал головной компании составляет – 100 млн. долл., контрольный пакет акций – 20%. Материнская компания скупила контрольные пакеты акций пяти дочерних компаний:

- у первой – на сумму 3 млн. долл. /30% акционерного капитала/;
- у второй – на сумму 8 млн. долл. /20% акционерного капитала/;
- у третьей – на сумму 6 млн. долл. /35% акционерного капитала/;
- у четвертой – на сумму 7 млн. долл. /25% акционерного капитала/;
- у пятой – на сумму 5 млн. долл. /40% акционерного капитала/;

Подсчитайте общую сумму подчиненного капитала и сопоставьте с ним собственный капитал инвестора, скупившего контрольный пакет акций головной компании.

### **Задание 7. Тесты**

1 Экономика эффективна, если в ней достигнуты:

- а) полная занятость;
- б) полное использование производственных ресурсов;
- в) и полная занятость, и полное использование других производственных ресурсов;
- г) или полная занятость, или полное использование остальных ресурсов.

2 Предприятие выпускает 5% продукции отрасли. Что произойдет с индивидуальной и общественной стоимостью товара, если производительность труда на нем понизится в два раза, а интенсивность труда повысится в два раза?

- а) индивидуальная стоимость останется неизменной, общественная понизится;

- б) индивидуальная стоимость повысится, общественная останется неизменной;
- в) индивидуальная стоимость понизится, общественная останется неизменной;
- г) индивидуальная и общественная стоимости понизятся.

3 Что из перечисленного отличает экономические законы от законов природы?

- а) законы объективны;
- б) законы познаваемы;
- в) законы действуют на протяжении определенного исторического периода;
- г) законы выражают существенную, внутренне необходимую связь.

4 Если какое-либо имущество взять в аренду, то арендатор:

- а) является потенциальным собственником;
- б) распоряжается потребительной стоимостью имущества;
- в) является полным собственником;
- г) распоряжается ценностью данного имущества (может продать его или подарить);
- д) является владельцем этого имущества;
- е) данное имущество является бесхозным;
- ж) все ответы неверны.

5 Специализация имеет место в тех случаях, когда:

- а) хозяйственная единица производит набор товаров и услуг больший, чем тот, который она потребляет;
- б) хозяйственная единица производит набор товаров и услуг меньший, чем тот, который она потребляет;
- в) соотношение производимых и потребляемых товаров одинаково;
- г) товаров и услуг одного вида производится больше, чем других.



## Литература ко второму вопросу

1 Конспект лекций по курсу «Политическая экономия» для студентов экономических специальностей академии/ Сост. О. К. Гаршина. – Краматорск: ДГМА; ЗАО «НКМЗ», 2000. –С. 17-19.

### Вариант 5

**Задание 1. Определите категории:** альтернативные (вмененные) издержки производства, экономическое благо, переменный капитал; государственная собственность, ремедиум.

**Задание 2. Теоретический вопрос.** Товар и его свойства. Концепции стоимости товара: трудовая, маржиналистская и неоклассическая. Величина стоимости и факторы, ее определяющие.

**3. Упражнение.** Постройте кривую производственных возможностей экономики острова, на котором 4 человека собирают ежедневно 200 килограмм кокосов или 100 штук черепаховых яиц. Как сдвинется кривая производственных возможностей, если на острове ураганом будет повреждена примерно половина кокосов?

**Задание 4. Задача.** Чтобы произвести одну единицу товара, одна группа производителей затрачивает 4, другая - 2,5, третья - 3 часа. Определите общественно-необходимое время производства товара, если известно, что первая группа изготовила 5, вторая - 3, третья - 2 единицы товара. Каково социально-экономическое положение каждой группы товаропроизводителей?

**Задание 5. Задача.** Сумма цен проданных товаров - 1000 ед.; сумма цен товаров, проданных в кредит – 200 ед.; сумма платежей, по которым наступил срок уплаты - 300 ед.; сумма взаимно погашающихся платежей - 140 ед.; среднее число оборотов денежной единицы. – 3. Определите количество денег, необходимых для обращения.

**Задание 6. Сложная задача.** Наемный рабочий создал своим трудом новую стоимость в 900 долларов. Норма прибавочной стоимости составляет

200%. Какова величина заработной платы рабочего?

### **Задание 7. Тесты**

1 Фундаментальная проблема, с которой сталкиваются все экономические системы, это:

- а) инвестиции;
- б) редкость;
- в) потребление;
- г) производство.

2 Что из перечисленного не может входить в понятие познания и правильного использования экономических законов?

- а) отмена некоторых экономических законов;
- б) правильное формулирование требований экономических законов;
- в) нахождение и внедрение в жизнь организационно-хозяйственных и административных форм, которые наиболее полно соответствуют сущности данного закона.

3 Выберите наиболее корректное определение предмета экономической теории:

- а) экономическая теория изучает деятельность, включающую производство и обмен товарами;
- б) экономическая теория изучает переменные величины, поведение которых воздействует на состояние народного хозяйства (цены, производство, занятость и т.д.);
- в) экономическая теория изучает, как общество использует ограниченные ресурсы, необходимые для производства различных товаров, в целях удовлетворения потребностей людей;
- г) экономическая теория изучает деньги, банковскую систему, капитал.

4 Если государство повысит масштаб цен, то:

- а) стоимости товаров и золота понизятся;
- б) стоимости товаров и золота повысятся;

- в) стоимости товаров и золота не изменятся;
- г) стоимость товаров не изменится, а стоимость золота понизится;
- д) стоимость товаров не изменится, а стоимость золота повысится.

5 Каковы причины демонетизации золота?

- а) уменьшение масштаба цен США в 1971 году;
- б) увеличение спроса на доллары за пределами США;
- в) обострение противоречия между физической формой и социальной сущностью денег;
- г) недостаточность золотых запасов государств для обеспечения разменности банкнот на золото;
- д) верны ответы а) и б);
- е) верны ответы в) и г);
- ж) верны ответы в) и б);
- з) верны ответы а) и г);
- и) все предыдущие ответы верны.

### Литература ко второму вопросу

1 Конспект лекций по курсу «Политическая экономия» для студентов экономических специальностей академии/ Сост. О. К. Гаршина. – Краматорск: ДГМА; ЗАО «НКМЗ», 2000. –С. 21-24.

### Вариант 6

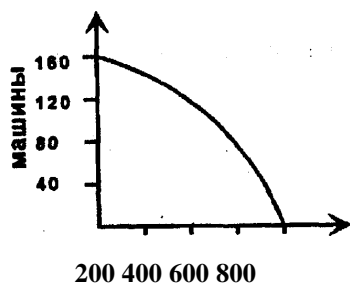
**Задание 1. Определите категории:** приватизация, предмет труда, золотой стандарт, товарищество на паях, стоимость.

**Задание 2. Теоретический вопрос.** Возникновение, сущность и функции денег.

**Задание 3. Упражнение.** Кривая производственных возможностей экономики включает два товара: машины и хлебобулочные изделия. Найдите точки на графике и определите эффективный, неэффективный и

невозможный варианты производства:

- а) 160 машин и 400 хлебобулочных изделий;
- б) 120 хлебобулочных изделий и 160 машин;
- в) 600 хлебобулочных изделий и 70 машин;
- г) 600 хлебобулочных изделий и 80 машин;
- д) 110 хлебобулочных изделий и 500 машин.



хлебобулочные изделия

**Задание 4. Задача.** В 1970 году доллар США обменивался на 2,3 индийских рупии. Определите масштаб цен Индии, если известно, что доллар представлял в обращении 0,888 грамм золота. Как изменился валютный курс доллара к рупии после девальвации доллара до 0,818 грамм золота в 1971 году?

**Задание 5. Задача.** Трудовой мигрант заработал в России 500 долларов. Валютный курс рубля к доллару на момент получения зарплаты составлял 5300 рублей за 1 доллар. В Украине сложились следующие обменные курсы: 1 гривня 81 копейка за 1 доллар и 2900 рублей за 1 гривню. Как лучше конвертировать доллары в гривни? Изменится процесс конвертации, если в России валютный курс рубля к доллару повысится до 5540 рублей за 1 доллар, а обменные курсы в Украине будут зафиксированы на прежнем уровне?

**Задание 6. Сложная задача.** Уставный капитал открытого акционерного общества состоит из 180000 простых и 20000 привилегированных акций номинальной стоимостью по 10 гривень каждая. Определите, на какую сумму нужно приобрести акции, чтобы обеспечить

безусловный контроль над капиталом акционерного общества? Сколько процентов составляет контрольный пакет акций?

### **Задание 7. Тесты**

1 Если в обществе объем производственных ресурсов увеличился, то:

- а) будет произведено больше товаров и услуг;
- б) экономика в состоянии производить больше товаров и услуг;
- в) улучшилась технология производства;
- г) повысился стандарт жизненного уровня.

2 Укажите, какая группа предприятий выпускающих однородную продукцию, определяет общественно-необходимое время:

- а) та, которая выпускает основную массу продукции отрасли;
- б) та, которая затрачивает на единицу продукции наименьшее время;
- в) та, которая расходует на единицу продукции максимальное время.

3 В какой функции выступают деньги при возвращении ссуды, уплате налога и страховых платежей?

- а) мера стоимости;
- б) средство обращения;
- в) средство накопления и образования сокровищ;
- г) средство платежа;
- д) всемирные деньги.

4 В соответствии с концепцией «Экономикс»:

- а) деньги – это удобный социальный инструмент, исполняющий важные для общества функции;
- б) деньги – это особый общественно признанный товар, выполняющий роль всеобщего эквивалента;
- в) деньги – это банкноты, казначейские билеты, монеты и безналичные деньги.

5 Владелец облигации – это:

- а) совладелец компании;

- б) кредитор, который получает дивиденд;
- в) кредитор, который получает фиксированный процент;
- г) все ответы неверны.

### **Литература ко второму вопросу**

- 1 Конспект лекций по курсу «Политическая экономия» для студентов экономических специальностей академии/ Сост. О. К. Гаршина. – Краматорск: ДГМА; ЗАО «НКМЗ», 2000. –С. 25-30.
2. Современная экономика. Многоуровневое учебное пособие /Под ред. О. Ю. Мамедова. – Ростов-на-Дону: «Феникс», 1997. – С. 128-132.

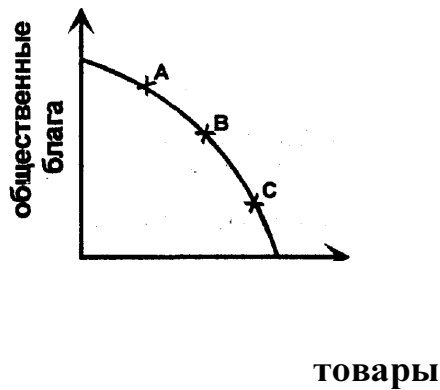
### **Вариант 7**

**Задание 1. Определите категории:** закон возрастающих вмененных издержек, цена, нуллификация, консорциум, относительная прибавочная стоимость.

**Задание 2. Теоретический вопрос.** Характеристика денежной системы. Элементы денежной системы. Системы металлического обращения. Закон Грэшема.

**Задание 3. Упражнение.** Линия производственных возможностей иллюстрирует общественный выбор между производством общественных благ и товаров индивидуального потребления. Точки А, В, С характеризуют различную степень участия государства в развитии экономики. Для каждой точки подберите ситуацию, соответствующую ее местоположению на ЛПВ:

- а) минимальное вмешательство государства в экономику;
- б) правительство обеспечивает производство большей части общественных благ (социальных услуг) в рамках государственного сектора.
- в) занимаясь производством общественных благ, правительство в то же время допускает функционирование частного сектора.



**Задание 4. Задача.** В 1960г. 6,9 датских крон обменивалась на 1 доллар США. Определите масштаб цен Дании, если масштаб цен США составлял 0,888грамм золота. Как изменился валютный курс кроны к доллару после девальвации доллара в 1971г., когда его золотое содержание было уменьшено на 8%?

**Задание 5. Задача.** Как изменилась цена американского оборудования для спутниковых систем, поставляемого в Японию, если курс йены понизился с 250 до 300 йен за доллар?

**Задание 6. Сложная задача.** Рассчитайте размер арендной платы для сложного имущественного комплекса, если известно, что стоимость его составляет 17,5 млн. гривен; доля новых фондов в имущественном комплексе равна 70%; на полностью изношенные объекты приходится 10% общей стоимости, на объекты средней степени износа - 20%. Арендный процент равен 5%, норма амортизации - 10%,  $K_0=0,5$ ;  $K_3=1$ .

### **Задание 7. Тесты**

1 Проблема "что производить":

- а) может стоять перед частным предпринимателем, но не перед обществом;
- б) может рассматриваться как проблема выбора точки на ЛПВ;
- в) изучается на основе действия закона возрастающих вмененных издержек;
- г) возникает только в условиях острого дефицита ресурсов.

2 Предприятие выпускает 5% продукции отрасли. Что произойдет с индивидуальной и общественной стоимостью товара, если производительность труда на этом предприятии повысится в два раза, а интенсивность труда понизится в два раза?:

- а) индивидуальная стоимость понизится, общественная останется неизменной;
- б) индивидуальная стоимость останется неизменной, общественная понизится;
- в) индивидуальная и общественная стоимость понизятся;
- г) индивидуальная и общественная стоимость останутся неизменными;

3 В какой функции выступают деньги при купле-продаже товаров в розничной торговле?:

- а) мера стоимости;
- б) средство обращения;
- в) средство накопления и образования сокровищ;
- г) средство платежа;
- д) всемирные деньги.

4 Валютные курсы определяются:

- а) паритетом покупательной способности валют;
- б) паритетом покупательной способности валют, а также соотношением спроса и предложения на валюту;
- в) особыми операциями Национального банка.

5 Безвозмездное изъятие у собственника его имущества в установленном государством порядке – это:

- а) монополизация;
- б) приватизация;
- в) национализация;
- г) конфискация.



## Литература ко второму вопросу

1 Конспект лекций по курсу «Политическая экономия» для студентов экономических специальностей академии/ Сост. О. К. Гаршина. – Краматорск: ДГМА; ЗАО «НКМЗ», 2000. – С. 30-32.

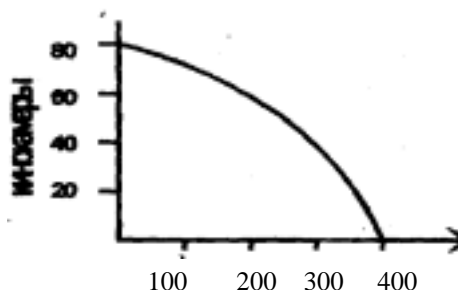
2 Поляков В.П., Московкина Л.А. Основы денежного обращения и кредита. - М.: «Инфра-М», 1995.- С. 22-28.

## Вариант 8

**Задание 1. Определите категории:** слияние, банкнота, офф-шорная компания, акция, общественное разделение труда,.

**Задание 2. Теоретический вопрос.** Общая характеристика золотого стандарта.

**Задание 3. Упражнение**



а) предположим, что в обществе производится 300 часов и 40 кинокамер, но спрос на кинокамеры вырос на 20 единиц. На сколько единиц необходимо сократить производство часов, чтобы удовлетворить этот спрос?

б) на сколько единиц уменьшится производство часов, если требуется произвести дополнительно еще 20 кинокамер?

**Задание 4. Задача.** В 1947 году 1 фунт стерлингов Великобритании обменивался на 4 доллара США. Масштаб цен США - 0,888 грамм золота. Определите масштаб цен Великобритании. Как изменился валютный курс

фунта к доллару после девальвации доллара на 10%?

**Задание 5. Задача.** В промышленности Японии в 1960 году норма прибавочной стоимости составляла 300%, рабочая неделя – 50,2 часа. Какое время в течение недели рабочий трудился на капиталиста?

**Задание 6. Сложная задача.** Капитал головной компании составляет – 50 млн. долл., контрольный пакет акций – 30%. Материнская компания – на 20 млн. долл. скупил контрольные пакеты акций четырех дочерних компаний, составляющие по 25% от их акционерного капитала. В свою очередь дочерние компании приобрели на 12 млн. долл. контрольные пакеты акций 12 внучатых компаний, составляющие 30% от их акционерного капитала. Подсчитайте общую сумму подчиненного капитала. Сколько процентов по отношению к подчиненному капиталу составляет собственный капитал инвестора, скупившего контрольный пакет акций материнской компании?

### **Задание 7. Тесты**

1 Проблема «что производить» не стоит, если:

- а) предложение ресурсов настолько ограничено, что они должны быть использованы только для производства предметов потребления;
- б) предложение ресурсов достаточно и для того, чтобы производить предметы роскоши;
- в) каждый производственный ресурс специфичен, т.е. он может быть использован для производства только одного конкретного товара;
- г) экономика не достигла стадии, когда начинает действовать закон возрастающих вмененных издержек.

2 Какова экономическая цель, если общество стремится минимизировать издержки и максимизировать отдачу от ограниченных производственных ресурсов?

- а) достижение полной занятости;
- б) экономическая эффективность;

- в) поддержание экономического роста;
- г) экономическая безопасность.

3 Какую функцию выполняют деньги при уплате долга?

- а) мера стоимости;
- б) средство обращения;
- в) средство накопления и образования сокровищ;
- г) средство платежа;
- д) всемирные деньги.

4 Движение мысли от частных фактов к общему выводу – это:

- а) индукция;
- б) дедукция;
- в) анализ;
- г) синтез.

5 Что из перечисленного не входит в состав экономических ресурсов:

- а) инвестиционные товары;
- б) технологии;
- в) время;
- г) земля;
- д) предпринимательская способность

### **Литература ко второму вопросу**

1 Конспект лекций по курсу «Политическая экономия» для студентов экономических специальностей академии/ Сост. О. К. Гаршина. – Краматорск: ДГМА; ЗАО «НКМЗ», 2000. –С. 33.

2 Аникин В.В. Золото. - М.: Международные отношения, 1988.- С.216-238.

**Задание 1. Определите категории:** открытая корпорация, малое предприятие, девальвация, бумажные деньги, , интенсивность труда'.

**Задание 2. Теоретический вопрос.** Демонетизация золота и возникновение бумажно-денежных систем. Дискуссия о возвращении к золотому стандарту.

**Задание 3. Упражнение.** Инженер Сидорова зарабатывает 800 гривен в месяц, работая по 8 часов в день 25 дней в течение месяца. На базаре за карпом по 2,5 грн. за килограмм нужно стоять час, а за карпом по 5 грн. килограмм очереди нет. При каком объеме покупок рационально приобретение более дешевого карпа для инженера Сидоровой?

**Задание 4. Задача.** Чтобы произвести единицу товара, одна группа производителей затрачивает 8, другая - 5; третья - 6 часов. Определите общественно-необходимое время производства товара, если известно, что первая группа изготовила 10, вторая 6, третья 4 единицы товара. Каково социально - экономическое положение каждой группы?

**Задание 5. Задача.** Предположим, что рабочий день составляет 10 часов, необходимое время – 5 часов. Допустим, что необходимое время сократилось до 4 часов. На сколько процентов увеличилась степень эксплуатации рабочих?

**Задание 6. Сложная задача.** Трудовой мигрант заработал в России 800 долларов. Валютный курс рубля к доллару на момент получения зарплаты составлял 28,05 рублей за 1 доллар. В Украине сложились следующие обменные курсы: 5,53 гривни за 1 доллар и 0,192 гривни за 1 рубль. Как лучше конвертировать доллары в гривни? Изменится ли процесс конвертации, если в России валютный курс рубля к доллару повысится до 26,5 рубля за 1 доллар, а обменные курсы в Украине будут зафиксированы на прежнем уровне?

**Задание 7. Тесты**

1 Кривая производственных возможностей показывает:

- а) альтернативную комбинацию товаров при наличии данного количества ресурсов;
- б) точные количества двух товаров, которые хозяйство намерено произвести;
- в) лучшую из возможных комбинаций двух товаров;
- г) время, когда вступает в действие закон роста вмененных издержек.

2 Проблема «как производить» не существует:

- а) если количество производственных ресурсов строго фиксировано и «привязано» к конкретным товарам;
- б) если экономика не испытывает действия закона роста вмененных издержек;
- в) при условии ограниченности запасов производственных ресурсов по отношению к наличной рабочей силе;
- г) в технически развитом обществе, где эта проблема становится чисто технической.

3 Какую функцию выполняют деньги при помещении в банк?

- а) мера стоимости;
- б) средство обращения;
- в) средство накопления и образования сокровищ;
- г) средство платежа;
- д) всемирные деньги

4 Понижение курса национальной валюты способствует:

- а) выгодному экспорту, дорогому импорту;
- б) невыгодному экспорту, дешевому импорту;
- в) все предыдущие ответы неверны.

5 Какова динамика стоимости товара «рабочая сила»?

- а) стоимость товара "рабочая сила" растет;
- б) стоимость товара «рабочая сила» уменьшается;

- в) стоимость товара "рабочая сила" не изменяется;
- г) все предыдущие ответы неверны.

### **Литература ко второму вопросу**

- 1 Конспект лекций по курсу «Политическая экономия» для студентов экономических специальностей академии/ Сост. О. К. Гаршина. – Краматорск: ДГМА; ЗАО «НКМЗ», 2000. –С. 34-35.
- 2 Макконнелл К., Брю С. Экономикс. Т.1. - М.: Республика, 1992. - С. 318.
- 3 Поляков В.П., Московкина Л. А. Основы денежного обращения и кредита. - М.: «Инфра-М», 1995.-С. 166-188.

### **Вариант 10**

**Задание 1. Определите категории:** монометаллизм, монета, лизинг, закрытая корпорация, прибавочный продукт.

**Задание 2. Теоретический вопрос.** Виды денежных реформ. Методы стабилизации валют.

**Задание 3. Упражнение.** Цена товара - 100 грамм золота. Как изменится цена товара, если:

- а) стоимость товара понизится вдвое;
- б) стоимость денег понизится вдвое;
- в) спрос на товар вырастет в 4 раза?

Какой будет цена товара в каждом случае?

**Задание 4. Задача.** В 1970 году 1 доллар США обменивался на 2,4 индийских рупии. Определите масштаб цен Индии. Как изменился валютный курс доллара к рупии после девальвации доллара до 0,818 грамм золота в 1971г.? Ранее масштаб цен США составлял 0,888 грамм золота.

**Задание 5. Задача.** Для производства единицы товара одна группа

товаропроизводителей затрачивает 4, другая - 5, третья - 3 часа. Определите общественно - необходимое время производства товара, если известно, что первая группа изготовила 20, вторая - 12, третья - 8 единиц товара. Каково социально-экономическое положение каждой группы товаропроизводителей?

**Задание 6. Сложная задача.** Первоначально рабочий день составлял 8 часов, причем прибавочное время на 1 час больше необходимого. Один час труда создает стоимость в 4 доллара. Капиталисту удалось за счет удлинения рабочего дня получить дополнительно 8 долларов. На сколько процентов возросла норма прибавочной стоимости?

### **Задание 7. Тесты**

1 Проблемы «что, как и для кого производить» могут иметь отношение:

- а) только к тоталитарным системам или к обществам, где господствует централизованное планирование;
- б) к любому обществу безотносительно к его социально-политической организации;
- в) только к отсталой экономике;
- г) только к рыночной экономике.

2 Предприятие выпускает 90% продукции отрасли. Что произойдет с индивидуальной и общественной стоимостью товара, если интенсивность труда на этом предприятии повысится в два раза?

- а) индивидуальная стоимость останется неизменной, общественная понизится;
- б) индивидуальная и общественная стоимость останутся неизменными;
- в) индивидуальная и общественная стоимость понизятся;
- г) индивидуальная стоимость понизится, общественная останется без изменений.

3 В какой функции выступают деньги при предоставлении кредита?

- а) мера стоимости;
- б) средство обращения;

- в) средство накопления и образования сокровищ;
- г) средство платежа;
- д) всемирные деньги.

4 Если три компании организовали временное экономическое соглашение для достижения общей цели, то это:

- а) консорциум;
- б) совместное предприятие;
- в) кооператив;
- г) финансово – промышленная группа.

5 Почему предприниматели покупают франшизу вместо того, чтобы самим организовать свое дело?

- а) у них появляется возможность быстро утвердиться на рынке;
- б) можно обучиться новому виду деятельности;
- в) они получают экономию на организационных расходах;
- г) все предыдущие ответы верны.

### **Литература ко второму вопросу**

1 Поляков В.П., Московкина Л.А. Основы денежного обращения и кредита.- М.: «Инфра-М», 1995. - С. 166-188.

2 Конспект лекций по курсу «Политическая экономия» для студентов экономических специальностей академии/ Сост. О. К. Гаршина. – Краматорск: ДГМА; ЗАО «НКМЗ», 2000. –С. 38-39.



## КОНТРОЛЬНАЯ РАБОТА № 2 ДЛЯ СТУДЕНТОВ 1 КУРСА

### Вариант 1

**Задание 1. Определите категории:** маркетинг, коммерческий риск, торговая прибыль, амортизация, абсолютная рента.

**Задание 2. Теоретический вопрос.**оборот и структура факторов производства. Физический и моральный износ факторов производства. Амортизация. Норма амортизации. Политика ускоренной амортизации.

**Задание 3. Упражнение.** Студент рассматривает два варианта получения денежного выигрыша. Возможные исходы и их вероятности по вариантам отражены в таблице:

	Исходы	Вероятности
Вариант 1	160 грн. 80 грн.	0,5 0,5
Вариант 2	0 грн. 250 грн.	0,95 0,05

1) Какой вариант выберет студент, максимизирующий денежный выигрыш?

2) Какой вариант будет выбран, если студент стремится купить магнитофон, цена которого превышает 200 грн.?

**Задание 4. Задача.** Авансированный капитал составляет 200 ден. ед., его органическое строение – 4:1; норма прибавочной стоимости – 200%. Определите норму прибыли и прибавочную стоимость.

**Задание 5. Задача.** Промышленный капитал составляет 425 млрд. долл.; торговый капитал, занятый реализацией товаров, равен 75 млрд. долл. Определите цены по которым продают свои товары промышленные и торговые капиталисты, если норма прибавочной стоимости в обществе составляет 100%, а величина переменного капитала 25 млрд. долл.

**Задание 6. Сложная задача.** В два равновеликих участка вложен капитал по 6000 долл., получено 600 и 400 центнеров продукции. Средняя норма прибыли – 20%. Как изменится дифференциальная рента, если в обработку будет вовлечен третий участок, приносящий при прочих равных условиях 300 центнеров продукции?

### **Задание 7. Тесты**

1 Какому виду износа подвергается средство труда, если произведены опытные образцы новых станков?

- а) моральному износу;
- б) физическому износу;
- в) и моральному, и физическому износу;
- г) все предыдущие ответы неверны.

2 Что служит источником торговой прибыли?

- а) надбавка к цене;
- б) часть прибавочной стоимости;
- в) торговая наценка;
- г) разница между стоимостью и ценой производства.

3 Положительное решение о строительстве моста, который прослужит 200 лет и сможет приносить ежегодно прибыль в размере 10%, будет принято при условии, что процентная ставка составляет:

- а) не более 2%;
- б) не более 20%;
- в) 10% или менее;
- г) 10% или более;
- д) для принятия решения отсутствует информация.

4 Чем больше разница между действительным результатом и ожидаемым, тем:

- а) выше риск;
- б) ниже риск;

в) для ответа недостаточно информации.

5 Что произойдет с дифференциальной рентой I, если уйдут из сельскохозяйственного оборота все худшие земли?

а) дифференциальная рента I понизится;

б) повысится;

в) не изменится.

### Литература ко второму вопросу

1 Современная экономика. Многоуровневое учебное пособие /Под ред. О. Ю. Мамедова. – Ростов-на-Дону: «Феникс», 1997. – С. 340-343, 345-347.

### Вариант 2

**Задание 1 .Определите категории:** дифференциальная рента II, основной капитал, централизация капитала, ломбардный кредит, издержки обращения.

**Задание 2. Теоретический вопрос.** Монополия частной собственности на землю и абсолютная рента. Монопольная рента.

**Задание 3. Упражнение.** Предположим, что Ал, Бэт, Кэрол, Дэвид и Эд получают доходы в размере 500, 250, 125, 75 и 50 долл. соответственно. Постройте кривую Лоренца для такой экономики из пяти человек и дайте необходимые пояснения.

**Задание 4.Задача.** Авансированный капитал составляет 400 ден. ед., оборотный капитал-200 ден. ед., время его оборота - 3 месяца, основной капитал служит 5лет. Определите общий оборот капитала за год.

**Задание 5. Задача.** Прогрессивная сдельная расценка за обработку детали составляет 0.9 грн., обычная – 0.85 грн. При норме выработки 10 штук изделий в смену, величина дневной заработной платы составила 10.3 грн.

Определите процент перевыполнения нормы.

**Задание 6. Сложная задача.** Органическое строение авансированного капитала в 800 ден. ед. составляет 4:1; норма прибавочной стоимости – 100%. Ежегодно 32 ден. ед. прибавочной стоимости накапливаются. Определите норму накопления.

### **Задание 7 Тесты**

1 Укажите фактор, не связанный с моральным износом машин:

- а) создание новых, более производительных машин;
- б) производственное использование (снашивание);
- в) удешевление производства машин;
- г) появление новых отраслей производства.

2 В каких пределах изменяется норма ссудного процента?

- а) от нуля до средней нормы прибыли;
- б) между банковским процентом и средней нормой прибыли;
- в) выше средней нормы прибыли и ниже банковского процента;
- г) все предыдущие ответы верны;
- д) все предыдущие ответы неверны.

3 К какому роду издержек обращения относится заработная плата кассира магазина?

- а) к дополнительным издержкам;
- б) к чистым издержкам.

4 Стоимость проезда в автобусе 0,5 грн. Штраф за безбилетный проезд - 10 грн. Какова должна быть минимальная вероятность задержания контролером не приемлющего риск студента Зайцева, чтобы он всегда покупал билет?

а) 10% ; б) 15%; в) 20%; г) 0,05%; д) 0,5%; е) 5%.

5 Всегда ли продажа товара по цене ниже стоимости убыточна?

- а) всегда убыточна;
- б) может быть прибыльной;
- в) нет ни прибыли, ни убытков;

г) все предыдущие ответы неверны

### **Литература ко второму вопросу**

1 Конспект лекций по курсу «Политическая экономия» для студентов экономических специальностей академии/ Сост. О. К. Гаршина. – Краматорск: ДГМА; ЗАО «НКМЗ», 2000. –С. 55-58.

### **Вариант 3**

**Задание 1 .Определите категории:** оборотный капитал, земельная рента, заработная плата, риск, чистые издержки обращения.

**Задание 2. Теоретический вопрос.** Сущность и функции распределения. Экономические законы распределения. Законы Энгеля. Плюрализм отношений собственности и множественность форм распределения в современных экономических системах.

**Задание 3. Упражнение.** Затраты на содержание складского хозяйства составляют 30 ден. ед., на транспортировку товаров 20 ед. Погрузочно-разгрузочные работы оцениваются в 40 ден. ед., амортизация торговых помещений 10 ден. ед., затраты на их содержание и оформление витрин 100 ден. ед. Рекламная деятельность требует 130 ден. ед. Подсчитайте чистые и дополнительные издержки обращения, определите структуру издержек

**Задание 4. Задача.** Промышленный капитал в обществе составляет 450 млрд. долл., из них постоянный капитал-400 млрд. долл. Норма прибавочной стоимости - 200%. Торговый капитал, осуществляющий реализацию промышленной продукции, составляет 50 млрд. долл. Определите промышленную и торговую прибыль а также цены, по которым реализуют свои товары промышленные и торговые капиталисты.

**Задание 5. Задача.** Земельный собственник сдал в аренду земельный участок, на котором были сооружения и постройки стоимостью в 11 тыс.

долл. Срок их годности - 20 лет. Годовая средняя норма прибыли 10%. Согласно арендному договору, заключенному на один год, арендатор обязан платить собственнику земли арендную плату в сумме 21000 долл. Какова величина земельной ренты, присваиваемой земельным собственником в течении года?

**Задание 6. Сложная задача.** Имеются три отрасли производства с капиталами  $240C+60V$ ,  $210C+90V$ ,  $270C+30V$ . Норма прибавочной стоимости во всех отраслях составляет 200%. Определите среднюю норму прибыли и цену производства.

### **Задание 7. Тесты**

1 Какому виду износа подвергается средство труда, если на международной выставке экспонируется новый станок?

- а) моральному износу;
- б) физическому износу;
- в) и моральному и физическому износу;
- г) все предыдущие ответы верны;
- д) все предыдущие ответы неверны.

2 Студент имеет 100 долл. и решает: сберечь их или потратить. Если он положит деньги в банк, то через год получит 112 долларов. Инфляция составляет 14% в год. Определите:

- а) какова номинальная ставка процента?
- б) какова реальная ставка процента?
- в) что бы вы посоветовали студенту?
- г) как повлияло бы на Ваш совет снижение темпа инфляции до 10% при неизменной номинальной ставке процента?

3 Что является источником торговой прибыли?

- а) торговая наценка;
- б) прибавочная стоимость, созданная в материальном производстве;
- в) часть средней прибыли промышленного капиталиста;

д) дополнительные издержки обращения.

4 Какой категорией следует считать издержки производства?

а) категории товарного производства;

б) общей экономической категорией, присущей всем экономическим системам;

в) категорией капиталистического производства;

г) все предыдущие ответы неверны.

5 Чем крестьянское хозяйство отличается от фермерского?

а) использованием труда членов крестьянской семьи;

б) характером производства;

в) формой собственности на землю.

### Литература ко второму вопросу

1 Конспект лекций по курсу «Политическая экономия» для студентов экономических специальностей академии/ Сост. О. К. Гаршина. – Краматорск: ДГМА; ЗАО «НКМЗ», 2000. –С. 61-63.

### Вариант 4

**Задание 1 .Определите категории:** моральный износ основного капитала, ипотечный кредит, объединение рисков, дополнительные издержки обращения, распределение.

**Задание 2. Теоретический вопрос.** Развитие капитализма в сельском хозяйстве. Феодалная рента и капиталистическая рента.

**Задание 3. Упражнение.** Допустим, что цена Вашего автомобиля 25000 долларов. Вероятность того, что автомобиль будет украден в течение года, равна  $1/25$ . Определите сумму минимального страхового взноса. Какие услуги страховой компании должен оплатить страхователь?

**Задание 4.Задача.** Авансированный капитал предприятия составляет

400000 ф. ст., заработная плата работников - 80000ф.ст., затраты на сырье, материалы, топливо, энергию - 80000 ф. ст. Оборотный капитал оборачивается в течение года 5 раз. Норма амортизации равна 10%. Определите общий оборот капитала в течение года.

**Задание 5.Задача.** Капитал предприятия составляет 600 тыс. долл., переменный капитал – 100 тыс. долл.; норма прибавочной стоимости 200%. Потребляемая в одном цикле часть постоянного капитала составляет 200 тыс. долл. Подсчитайте: капиталистические издержки производства, стоимость товара, норму прибыли.

**Задание 6. Сложная задача.** Авансированный в земельный участок капитал в 200 ден. ед. при норме прибыли 20% позволил его хозяину получить урожай в 3 центнера. В течение последующих 6 лет он дважды производил инвестиции в землю по 200 ден. ед. Урожай после первого капиталовложения составил 4 центнера, после второго – 6 центнеров. Определите дифференциальную земельную ренту II после первого и второго вложений капитала.

### **Задание 7.Тесты**

1 При принятии решений об инвестициях фирмы принимают во внимание:

- а) номинальную ставку процента;
- б) реальную ставку процента;
- в) номинальную процентную ставку за вычетом реальной ставки процента;
- г) только другие, не указанные выше факторы;
- д) реальную ставку процента за вычетом номинальной.

2 Из указанных издержек обращения укажите те, которые относятся к чистым издержкам:

- а) затраты на организацию торгово-складского хозяйства;
- б) расходы на сортировку и упаковку товара;
- в) затраты на изготовление денежных знаков и обслуживание денежного



обращения;

г) амортизация складских помещений и торгового инвентаря.

3 Что является источником банковской прибыли?

а) разница между банковским и ссудным процентом;

б) часть средней прибыли, уступаемая функционирующим капиталистом банкиру за пользование ссудой;

в) разница между ссудным и банковским процентом.

4 Если на предприятии органическое строение капитала выше, чем в среднем в национальной экономике, и оно действует в условиях совершенной конкуренции, то:

а) прибавочная стоимость, создаваемая на предприятии, меньше средней прибыли;

б) прибавочная стоимость, создаваемая на предприятии, больше средней прибыли;

в) прибавочная стоимость, создаваемая на предприятии, равна средней прибыли;

г) все предыдущие ответы неверны.

5 Нерасположенность экономического агента к риску может быть выявлена по:

а) оценке вероятности ожидаемых событий;

б) кривизне функции полезности;

в) исходному денежному состоянию;

г) в условиях неопределенности рациональность поведения не может быть сформулирована и оценена.

### **Литература ко второму вопросу**

1 Конспект лекций по курсу «Политическая экономия» для студентов экономических специальностей академии/ Сост. О. К. Гаршина. – Краматорск: ДГМА; ЗАО «НКМЗ», 2000. –С. 45-47.

## Вариант 5

**Задание 1. Определите категории:** ссудный капитал, частная закладная, монополия частной собственности на землю, обращение, жизненный цикл товара.

**Задание 2. Теоретический вопрос.** Неопределенность и риск. Ассортимент рисков. Измерение и оценка возможного риска. Отношение к риску.

**Задание 3. Упражнение.** Цена земельного участка возросла с 500 до 800 тыс. ф. ст. За тот же период норма банковского процента понизилась с 5% до 4% годовых. Как изменилась рента с этого участка земли?

**Задание 4. Задача.** Покупная цена оборудования – 1.5 млн. долл.; срок его службы – 10 лет. Подсчитайте величину износа оборудования за год, норму амортизации и размеры амортизационного фонда к началу седьмого года эксплуатации оборудования.

**Задание 5. Задача.** Авансированный капитал составляет 600 млн. ден. ед. при органическом строении капитала 3:1; степень эксплуатации – 200%, норма накопления – 40%. Каковы будут размеры капитала к началу четвертого года его функционирования?

**Задание 6. Сложная задача.** В обрабатывающую и добывающую отрасли экономики авансировано по 200 ден. ед. капитала при его органическом строении 9:1 и 4:1; в сельское хозяйство инвестирован такой же капитал при органическом строении 1:1. Норма прибавочной стоимости в экономике составляет 200%. Определите абсолютную ренту.

### Задание 7. Тесты

1 Какому виду износа подвергается средство труда, если появились патенты на новейшие открытия, позволяющие совершенствовать оборудование?

- а) моральному износу;
- б) физическому износу;

в) и моральному и физическому износу;

г) все предыдущие ответы неверны.

2 Фирма предполагает взять банковскую ссуду на строительство нового предприятия. Годовая ставка процента составляет 18%, ожидаемая норма прибыли 20%. При этих условиях фирма:

а) не будет строить новое предприятие;

б) будет строить предприятие;

в) несмотря на убыток, решит строить предприятие;

г) не сможет принять решение на основе имеющейся информации;

д) такая ситуация не может иметь места.

3 Участвуют ли торговый и ссудный капитал в образовании средней нормы прибыли?

а) участвуют;

б) не участвуют;

в) торговый капитал участвует, а ссудный - нет;

г) ссудный капитал участвует, а торговый - нет.

4 Если органическое строение капитала растет, то:

а) норма прибыли повышается;

б) норма прибыли понижается;

в) норма прибыли не изменяется.

5 Страхование является прибыльной деятельностью, так как:

а) предотвращает риск;

б) объединяет риск большого числа клиентов;

в) суммарные взносы по страховым полисам превышают убытки клиентов;

г) страховой взнос каждого клиента превышает ожидаемые убытки.

## Литература ко второму вопросу

1 Р. М. Нуреев. Курс микроэкономики. Учебник для вузов. – 2-е изд., изм. – М.: НОРМА (Издательская группа НОРМА– ИНФРА М), 2000. - С 386-391.

### Вариант 6

**Задание 1. Определите категории:** торговый капитал, основной капитал, концентрация рынка, амортизация, нерегулярный спрос.

**Задание 2. Теоретический вопрос.** Способы снижения риска.

**Задание 3. Упражнение.** В 1988 году американцы купили государственные лотерейные билеты общей стоимостью 15 млрд. долл. Они получили обратно в виде призов около половины этой суммы – 7.5 млрд. долл. Около 15% составили административные расходы. Определите чистую прибыль штатов, выпустивших лотерейные билеты.

**Задание 4. Задача.** Основной капитал предприятия составляет 24 млн. долл., оборотный - 10 млн. долл. Переменный капитал равен 5 млн. долл. Найти величину авансированного капитала и его органическое строение.

**Задание 5. Задача.** Собственный капитал банка составляет 10 млн. долл., заемный - 110 млн. долл. Банк отдал в ссуду 100 млн. долл. Процент, выплачиваемый вкладчикам, равен 3.5%, а процент, взимаемый с заемщиков, составляет 9.5% годовых. Издержки банковской деятельности – 550 тыс. долл. в год. Подсчитайте массу и норму прибыли банковского капитала.

**Задание 6. Сложная задача.** Имеются три отрасли производства, капиталы которых соответственно равны:  $70C+30V$ ,  $80C+20V$ ,  $90C+10V$ . Норма прибавочной стоимости – 100%. Как изменится средняя норма прибыли, если в первой отрасли промышленности степень эксплуатации повысится в два раза?

**Задание 7. Тесты**

1 Что произойдет с потребительной стоимостью и стоимостью средства труда, если растёт производительность труда, производство станков и

оборудования становится более дешевым?

- а) средство труда утратило потребительную стоимость и стоимость;
- б) потребительная стоимость сохраняется, а стоимость уменьшается;
- в) потребительная стоимость исчезла, а стоимость сохраняется;
- г) потребительная стоимость и стоимость остались без изменений.

2 К какому виду издержек обращения относятся затраты на содержание складского хозяйства?

- а) дополнительные издержки;
- б) чистые издержки.

3 Для деловой сферы типичной является:

- а) математическая вероятность какого-то события;
- б) статистическая вероятность события или явления;
- в) и математическая, и статистическая вероятность.

4 Что служит источником торговой прибыли?

- а) надбавка к цене;
- б) часть прибавочной стоимости;
- в) торговая наценка;
- г) разница между ценой производства и стоимостью.

5 Что из ниже перечисленного нельзя отнести к характеристике ссудного капитала?

- а) это самая фетишистская форма капитала;
- б) в отличие от промышленного капитала, ссудный капитал проходит две стадии кругооборота;
- в) это самая паразитическая форма капитала;
- г) в ссудном капитале происходит разделение собственности на капитал от действительного применения капитала.

## Литература ко второму вопросу

1 Р. М. Нуреев. Курс микроэкономики. Учебник для вузов. – 2-е изд., изм. – М.: НОРМА (Издательская группа НОРМА– ИНФРА М), 2000. - С 391-398.

### Вариант 7

**Задание 1 .Определите категории:** маркетинг, оборотный капитал, физический износ основного капитала, диверсификация, отрицательный спрос.

**Задание 2. Теоретический вопрос.** Аграрные отношения, их содержание и место в современных экономических системах.

**Задание 3. Упражнение.** Постройте кривую Лоренца по следующим данным. Допустим, что все население разбито на 5 групп по уровню дохода. На первую группу семей приходится 8% совокупного дохода, на вторую – 11%, на третью – 18%, на четвертую – 26%, на пятую – 37%.

**Задание 4. Задача.** Промышленный капитал состоит из 180 ед. постоянного и ед. переменного капитала, торговый капитал насчитывает 50 денежных единиц. Норма прибавочной стоимости равна 100%. Определите величину промышленной и торговой прибыли.

**Задание 5. Задача.** Авансированный капитал фирмы равен 500 тыс. ден. ед., постоянный капитал – 400 тыс. ден. ед. потребляемая в одном цикле часть постоянного капитала составляет 100 тыс. ден. ед. Норма прибавочной стоимости – 250%. Подсчитайте: капиталистические издержки производства, стоимость товара, норму прибыли.

**Задание 6. Сложная задача.** Капитал предприятия составляет 120 млн. долл., в том числе постоянный капитал – 100 млн. долл. Стоимость сырья, материалов, топлива, энергии – 20 млн. долл. Норма амортизации основного капитала – 20%, оборотный капитал оборачивается 5 раз в год. Подсчитайте общий оборот капитала в течение года.

## Задание 7. Тесты

1 Что произойдет с потребительной стоимостью и стоимостью средства труда, если сломался станок, обветшало здание?

- а) средство труда утратило потребительную стоимость и стоимость;
- б) потребительная стоимость исчезла, а стоимость сохраняется;
- в) потребительная стоимость сохраняется, а стоимость исчезла;
- г) потребительная стоимость и стоимость остались без изменения.

2 Каковы преимущества крупного производства перед мелким?

- а) быстрое приспособление к изменяющимся рыночным условиям;
- б) лучше социальный климат в коллективе;
- в) простота управления;
- г) техническое превосходство.

3 Участвует ли ссудный капитал в образовании средней нормы прибыли?

- а) не участвует;
- б) участвует;
- в) для ответа недостаточно информации.

4 Укажите причину, в силу которой избыточный доход в сельском хозяйстве принимает форму дифференциальной ренты:

- а) монополия сельскохозяйственных предприятий на землю как объект хозяйства;
- б) аренда земли;
- в) более благоприятные факторы хозяйствования;
- г) частная собственность на землю.

5 При принятии решения об инвестициях фирмы принимают во внимание:

- а) номинальную ставку процента;
- б) реальную ставку процента;
- в) номинальную ставку процента, за вычетом реальной ставки процента;
- г) только другие, не указанные выше факторы;
- д) реальную ставку процента, за вычетом номинальной.

## Литература ко второму вопросу

1 Конспект лекций по курсу «Политическая экономия» для студентов экономических специальностей академии/ Сост. О. К. Гаршина. – Краматорск: ДГМА; ЗАО «НКМЗ», 2000. –С. 47-48.

### Вариант 8

**Задание 1 .Определите категории:** скрытый спрос, амортизация, асимметрия информации, моральный износ основного капитала, коммерческий риск.

**Задание 2. Теоретический вопрос.** Несельскохозяйственные виды ренты. Цена земли. Динамика цены земли в современных условиях. Закон Украины «О плате за землю».

**Задание 3. Упражнение.** Собственник земли в Великобритании получает ежегодно земельную ренту в 7000 ф. ст., а банк выплачивает вкладчикам 3,5% годовых. Как изменится цена земли, если рента возрастет в 2 раза, а банковский процент понизится на 20%?

**Задание 4. Задача.** Промышленный капитал составляет 425 млрд. долларов, торговый капитал, занятый реализацией промышленных товаров, равен 75 млрд. долларов. Определите цены, по которым продают свои товары промышленные и торговые капиталисты, если известно, что норма прибавочной стоимости в обществе 200%, переменный капитал равен 25 млрд. долларов.

**Задание 5. Задача.** Землевладелец сдал в аренду земельный участок сроком на 5 лет, на котором были производственные сооружения на сумму 10 тыс. денежных единиц. Срок их годности - 5 лет. Средняя норма прибыли – 10%. По истечении договора арендатор обязан восстановить изношенные производственные сооружения. Ежегодная сумма ренты – 2 тыс. денежных единиц. Укажите размер арендной платы за весь срок арендного договора



при допущении, что все остальные условия за этот период остались прежними.

**Задание 6. Сложная задача.** Допустим, что имеются три участка одинакового плодородия и размера, но различные по расположению к рынку сбыта. На всех участках получен одинаковый урожай по 1000 ц. Затраты на производство на всех участках равны по 9800. Транспортные расходы на 1-м (40 км от города) составляют 2200, на 2-м (20 км от города) – 1200, на 3-м (2 км от города) – 200. Средняя норма прибыли для всех участков – 10%. Определите дифференциальную земельную ренту I по местоположению на втором и третьем участках.

### **Задание 7. Тесты**

1 Чем можно предупредить потери от преждевременного морального износа техники?

- а) повышением интенсивности использования техники;
- б) капитальным ремонтом;
- в) капитальным строительством;
- г) ускоренной амортизацией техники, независимо от того, как она используется;

2 В состав каких затрат следует включать амортизацию кассовых аппаратов в торговле?

- а) в состав чистых издержек обращения;
- б) в состав дополнительных издержек обращения;
- в) эти затраты не включаются в состав издержек обращения.

3 В чем состоит экономический смысл показателя нормы прибыли?

- а) норма прибыли есть точный показатель степени эксплуатации наемных работников;
- б) норма прибыли показывает эффективность вложения капитала, степень доходности предприятия;

в) норма прибыли характеризует абсолютную величину прибыли, присваиваемую предпринимателем.

4 Какой из перечисленных ниже видов риска нельзя застраховать?

- а) опасность возникновения потерь в результате старости;
- б) опасность возникновения ограничения свободного обмена валют;
- в) косвенная потеря собственности;
- г) опасность возникновения потерь из-за пользования автомобилем.

5 Студент сэкономил 100 долл. и решает: сберечь их или потратить? Если он положит деньги в банк, то через год получит 110 долл. Инфляция составляет 7% в год.

- а) какова номинальная ставка процента?
- б) какова реальная ставка процента?
- в) что бы Вы посоветовали студенту?
- г) как повлияло бы на Ваш совет, увеличение темпа инфляции до 14% при неизменной номинальной ставке процента?

### Литература ко второму вопросу

1 Конспект лекций по курсу «Политическая экономия» для студентов экономических специальностей академии/ Сост. О. К. Гаршина. – Краматорск: ДГМА; ЗАО «НКМЗ», 2000. –С. 58-60.

2 Закон Украины «О плате за землю». – Ведомости Верховного Совета Украины, 1992, №4

3 Р. М. Нуреев. Курс микроэкономики. Учебник для вузов. – 2-е изд., изм. – М.: НОРМА (Издательская группа НОРМА– ИНФРА М), 2000. – С. 337-338

### Вариант 9

**Задание 1 .Определите категории:** торговый капитал, распределение риска, чрезмерный спрос, амортизация, издержки обращения.

**Задание 2. Теоретический вопрос.** Формы распределения по труду: их

общность и особенности. Заработная плата: ее сущность, современные формы и системы.

**Задание 3. Упражнение.** Весь производительно функционирующий капитал составляет 300 млрд. долл., в том числе 100 млрд. долл. – заемный капитал. Определите предпринимательский доход и доход ссудных капиталистов, если средняя норма прибыли 15%, а норма ссудного процента 11% годовых.

**Задание 4. Задача.** Стоимость машины - 40000 долл., срок ее службы-5 лет. Определите величину износа машины за год, норму амортизации и величину амортизационного фонда через три года.

**Задание 5. Задача.** Промышленный капиталист использовал для производства ссуду в 600 тыс. долл. Органическое строение капитала 4/1, норма прибавочной стоимости – 200%. Ставка ссудного процента равна 10%. Определите предпринимательский доход и ссудный процент.

**Задание 6. Сложная задача.** В кожевенную промышленность вложен капитал  $65c+35v$ , текстильную  $80c+20v$ , машиностроительную  $95c+5v$ , в сельское хозяйство  $60c+40v$ . Норма прибавочной стоимости во всех отраслях 100%. Чему будет равна абсолютная рента?

### **Задание 7. Тесты**

1 К какому виду рисков относится риск, предполагающий только вероятность убытков?

- а) чистый риск;
- б) спекулятивный риск;
- в) риски, связанные с юридической ответственностью;
- г) имущественные риски.

2 Положительное решение о строительстве моста, который будет служить 200 лет и приносить ежегодно прибыль в размере 10%, будет принято при условии, что процентная ставка составляет:

- а) не более 2%;

- б) не более 20%;
- в) 10% или менее;
- г) 10% или более;
- д). для принятия решения отсутствует информация.

3 Какому виду износа подвергается средство труда, если на международной выставке экспонируется новый станок?

- а) моральному износу;
- б) физическому износу;
- в) и моральному, и физическому износу;
- г) все предыдущие ответы верны;
- д) все предыдущие ответы неверны.

4 Почему К. Маркс считал дифференциальную ренту II лишь иным выражением дифференциальной ренты I?

- а) в основе обеих форм ренты лежит избыточный доход;
- б) интенсификация не устраняет природной разнородности почвы;
- в) дифференциальные ренты I и II создаются прибавочным трудом работников сельского хозяйства.

5 В чем заключается экономическая сущность распределения?

- а) распределение – это единый, всеобщий процесс доведения материальных и духовных благ до потребителей;
- б) распределение – это экономический процесс формирования индивидуальных доходов населения;
- в) распределение – это подсистема производственных отношений, связующее звено между производством, с одной стороны, и обменом и потреблением, с другой;
- г) все ответы верны;
- д) все ответы неверны.

## Литература ко второму вопросу

1 Конспект лекций по курсу «Политическая экономия» для студентов экономических специальностей академии/ Сост. О. К. Гаршина. – Краматорск: ДГМА; ЗАО «НКМЗ», 2000. –С. 65-67.

### Вариант 10

**Задание 1 .Определите категории:** ссудный капитал, диверсификация, коэффициент концентрации, дополнительные издержки обращения, торговая прибыль.

**Задание 2. Теоретический вопрос.** Особенности воспроизводства в сельском хозяйстве.

**Задание 3. Упражнение.** Доход с участка земли сельскохозяйственного назначения в Украине составил 500 грн. в год; средневзвешенная ставка банковского процента – 10%. Определите цену земли.

**Задание 4. Задача.** Основной капитал-800 тыс. долл., время его воспроизводства 10 лет, оборотный капитал равен 200 тыс. долл., число его оборотов в год -5. Необходимо узнать общий оборот капитала в течение года.

**Задание 5. Задача.** Промышленный капитал состоит из 160 ед. постоянного и 40 ед. переменного капитала, торговый капитал насчитывает 50 ед. Норма прибавочной стоимости равна 100%. Определите величину промышленной и торговой прибыли.

**Задание 6. Сложная задача.** Собственный капитал банка составляет 40 млн. долл., вклады - 380 млн. долл., банковский процент равен 3%. Из общей суммы располагаемых средств 400 млн. долл. банк выдал в кредит. Средняя норма прибыли в экономике 12%. Рассчитайте, какой процент банк должен взимать с заемщиков, чтобы обеспечить себе не меньше средней нормы прибыли на собственный капитал.

## Задание 7. Тесты

1 К какому виду рисков относится риск, предполагающий вероятность как прибылей, так и убытков?

- а) чистый риск;
- б) спекулятивный риск;
- в) риск, связанный с юридической ответственностью;
- г) имущественный риск.

2 Какому виду износа подвергается средство труда, если появляются патенты на новейшие открытия, позволяющие совершенствовать оборудование?

- а) моральному износу;
- б) физическому износу;
- в) и моральному, и физическому износу;
- г) все предыдущие ответы неверны;

3 Обязательно ли быть собственником земли, чтобы получать земельную ренту?

- а) да;
- б) нет;
- в) для ответа недостаточно информации.

4 Участие торгового капитала в образовании средней нормы прибыли:

- а) понижает среднюю норму прибыли;
- б) повышает среднюю норму прибыли;
- в) средняя норма прибыли остается без изменений.

5 Как взаимосвязаны равенство и эффективность?

- а) достижение большого равенства связано со снижением эффективности производства;

б) достижение большого равенства не зависит от эффективности производства;

в) с ростом эффективности производства одновременно достигается и большая степень равенства.

### **Литература ко второму вопросу**

1 Конспект лекций по курсу «Политическая экономия» для студентов экономических специальностей академии. Сост. О. К. Гаршина. – Краматорск: ДГМА, ЗАО «НКМЗ», 2000. – С. 48-49.

# КОНТРОЛЬНАЯ РАБОТА № 1 ДЛЯ СТУДЕНТОВ ГРУПП УСКОРЕННОГО ОБУЧЕНИЯ

## Вариант 1

**1. Определите категории:** экономическая система, холдинг, чек, деньги, деноминация.

**Задание 2. Теоретический вопрос.** Экономические системы: сущность и классификация.

**Задание 3. Упражнение.** Постройте кривую производственных возможностей экономики острова, на котором 5 человек собирают ежедневно 200 килограмм кокосов или 50 килограмм ананасов. Как сдвинется кривая производственных возможностей экономики, если на острове ураганом будет повреждена примерно половина плодоносных растений?

**Задание 4. Задача.** Наемный рабочий создал своим трудом новую стоимость в 600 долларов. Какова величина заработной платы рабочего, если норма прибавочной стоимости-200%?

**Задание 5. Задача.** Рабочий день составляет 8 часов, необходимое рабочее время-4 часа. Предположим, что вследствие увеличения производительности труда необходимое рабочее время сократилось до 2-х часов. На сколько процентов возросла степень эксплуатации, и какой метод увеличения прибавочной стоимости здесь имеет место?

**Задание 6. Сложная задача.** В состав крупного имущественного комплекса входит три завода, стоимости которых равны соответственно 10, 20, 30 млн. ден. ед. Все три завода сдаются в аренду. Оборудование первого завода изношено почти полностью, второго – наполовину, третий завод недавно введен в эксплуатацию. Амортизационные отчисления составляют 10% от стоимости объекта, коэффициент загрузки оборудования 0,8. Коэффициент, учитывающий долю остаточной стоимости в первоначальной,



равен 0,2. Арендный процент равен 5%. Арендодатель запросил арендную плату в сумме 6,8 млн. ден. ед. Объясните, пойдет ли арендатор на такие условия аренды? Докажите рациональность размера арендной платы со стороны арендатора расчетами.

### **Задание 7. Тесты**

1 Как будет развиваться экономика, если в ней будут преобладать фирмы, находящиеся полностью или частично в собственности работников?

- а) структура национальной экономики будет изменяться медленнее, уровень безработицы в ней будет выше;
- б) НТП будет развиваться быстрее, увеличится производительность труда;
- в) уровень безработицы в национальной экономике будет ниже.

2 Укажите, в каком случае увеличится производство относительной прибавочной стоимости:

- а) увеличится производительность труда на отдельном предприятии;
- б) возрастет производительность труда на предприятиях, производящих предметы роскоши;
- в) повысится интенсивность труда в обществе;
- г) возрастет производительность труда в той отрасли, в которой функционирует предприятие.

3 Какие сроки арендного договора устраивают арендатора?

- а) короткие;
- б) длинные;
- в) любые.

4 Понятие метода науки включает в себя:

- а) способы оптимального применения всей совокупности познавательных средств;
- б) структуру предмета;
- в) набор фактических данных;

г) мировоззренческие установки ученого.

5 Характеристиками экономического блага выступают:

а) способность удовлетворять потребность;

б) редкость;

в) ценность;

г) верно все указанное.

### **Литература ко второму вопросу**

1 Конспект лекций по курсу «Политическая экономия» для студентов экономических специальностей академии/ Сост. О. К. Гаршина. – Краматорск: ДГМА; ЗАО «НКМЗ», 2000. –С. 7-8.

### **Вариант 2**

**Задание 1. Определите категории:** хайринг, дефляция, биметаллизм, государственная собственность, капитал.

**Задание 2. Теоретический вопрос.** Экономические законы развития общества. Методы познания социально-экономических процессов.

**Задание 3. Упражнение.** Программист Петрова зарабатывает в час 10 грн. Ее мать на пенсии. На базаре за говядиной по 10 грн. за 1 килограмм нужно стоять час, за говядиной по 14 грн. за 1 килограмм очереди нет. При каком объеме покупок рационально приобретение более дешевой говядины для программиста Петровой? Ее матери?

**Задание 4. Задача.** В промышленности Японии в 1982 году норма прибавочной стоимости составляла 500%, рабочая неделя - 40 часов. Какое время в течение недели рабочий трудился на капиталиста?

**Задание 5. Задача.** Ткач, работавший раньше на шести станках, получал 150 франков в час. Теперь он работает на 10 станках и получает 170 франков в час. Какую сумму прибавочной стоимости приносит дополнительно один

ткач за каждый час труда в результате повышения интенсификации?

**Задание 6. Сложная задача.** Трудовой мигрант заработал в России 1500 долларов. Валютный курс рубля к доллару на момент получения зарплаты составлял 27,45 рублей за 1 доллар. В Украине сложились следующие обменные курсы: 5,62 гривни за 1 доллар и 0,189 гривни за 1 рубль. Как лучше конвертировать доллары в гривни? Изменится ли процесс конвертации, если в России валютный курс рубля к доллару повысится до 2,5 рубля за 1 доллар, а обменные курсы в Украине будут зафиксированы на уровне: 5,5 гривни за 1 доллар и 0,2 гривни за 1 рубль?

### **Задание 7. Тесты**

1 Почему малые предприятия первыми терпят крах в период экономического кризиса?

- а) Поскольку у них отсутствует система страхования капитала в виде резервного фонда, а банки выдают им кредиты под высокие проценты;
- б) малые предприятия не имеют достаточно средств для инвестирования, поэтому трудно приспособливаться к изменяющимся рыночным условиям;
- в) источники стартового капитала для создания малых предприятий крайне ограничены.

2 Создает ли прибавочную стоимость рабочий, занятый неполный рабочий день?

- а) да;
- б) нет;
- в) частично создает;
- г) все зависит от нормы прибавочной стоимости и продолжительности рабочего дня.

3 Какую информацию о бизнесе предоставляет общественности корпорация?

- а) никакой;
- б) информирует своих работников;

в) ежегодно публикует финансовые отчеты.

4 Полное использование всех ресурсов на кривой производственных возможностей показывает любая:

- а) точка, лежащая вне кривой производственных возможностей;
- б) точка, лежащая внутри кривой производственных возможностей;
- в) точка, лежащая на кривой производственных возможностей;
- г) точка, лежащая на кривой производственных возможностей, в которой достигается наиболее полное удовлетворение потребностей членов общества.

5 Что из перечисленного не может быть использовано в качестве критерия классификации экономических систем:

- а) уровень развития средств производства;
- б) степень зрелости производственных отношений;
- в) характер и масштабы воздействия человеческого общества на природную среду;
- г) степень развития рынка.

### **Литература ко второму вопросу**

1 Конспект лекций по курсу «Политическая экономия» для студентов экономических специальностей академии/ Сост. О. К. Гаршина. – Краматорск: ДГМА; ЗАО «НКМЗ», 2000. –С. 8-10.

### **Вариант 3**

**Задание 1. Определите категории:** рентинг, факторы производства, дисконтная облигация, абсолютная прибавочная стоимость, контрольный пакет акций.

**Задание 2. Теоретический вопрос.** Современные экономисты о классификации экономических ресурсов. Общественный продукт и его

структура.

**Задание 3. Упражнение.** Цена товара составляет 500 грамм золота. Определите как изменится цена товара, если:

- а) стоимость денег повысится в два раза;
- б) предложение товара на рынке возрастет в 1,5 раза;
- в) стоимость товара понизится в два раза.

Рассчитайте, какой будет цена в каждом из указанных случаев?

**Задание 4. Задача.** Первоначально рабочий день составлял 10 часов, причем прибавочное время на 1 час больше необходимого. Допустим, что один час труда создает стоимость в 5 долларов. Капиталисту удалось за счет удлинения рабочего дня получить дополнительно 15 долларов. На сколько процентов возросла норма прибавочной стоимости?

**Задание 5. Задача.** Пусть постоянный капитал-200 единиц, вновь созданная стоимость 150-ед., переменный капитал- 50ед. Подсчитайте: стоимость товара, прибавочную стоимость, норму прибавочной стоимости.

**Задание 6. Сложная задача.** Чтобы произвести единицу товара одна группа производителей затрачивает 8 часов, вторая - 5 часов, третья – 6, четвертая –7 , пятая – 4 часа. Определите общественно-необходимое время производства товаров и социально-экономическое положение производителей, если известно, что первая группа изготовила 8, вторая- 5, третья –6, четвертая –7, пятая – 4 единицы товара.

### **Задание 7. Тесты**

1 Каким образом организация акционеров может оказывать влияние на менеджеров?

- а) заставить их отчитаться на очередном собрании акционеров;
- б) акционеры, владеющие более, чем 20% голосов, вправе требовать внеочередного собрания АО;
- в) пригласить независимую аудиторскую фирму для проверки финансовой отчетности компании.

2 Каковы недостатки поглощений и слияний?

- а) падает конкурентоспособность компании, т.к. в процессе поглощения возрастают расходы на ведение конкурентной борьбы;
- б) может развиваться тенденция к монополизации производства;
- в) все предыдущие ответы верны;
- г) все предыдущие ответы неверны.

3 К какому способу увеличения прибавочной стоимости относят увеличение интенсивности труда на отдельном предприятии?

- а) абсолютная прибавочная стоимость;
- б) относительная прибавочная стоимость;
- в) избыточная прибавочная стоимость;
- г) все предыдущие ответы неверны.

4 Что зависит от золотого запаса страны в эпоху систем металлического обращения:

- а) масштаб цен;
- б) количество денег в обращении;
- в) устройство денежной системы;
- г) цены товаров.

5 Основными типами товарного производства принято считать:

- а) корпоративное, кооперативное, государственное;
- б) мелкотоварное, капиталистическое, социализированное;
- в) простое, капиталистическое, социалистическое.

### **Литература ко второму вопросу**

1 Конспект лекций по курсу «Политическая экономия» для студентов экономических специальностей академии/ Сост. О. К. Гаршина. – Краматорск: ДГМА; ЗАО «НКМЗ», 2000. –С. 12-14.

2 Р. М. Нуреев. Курс микроэкономики. Учебник для вузов. – 2-е изд., изм. – М.: НОРМА (Издательская группа НОРМА– ИНФРА М), 2000. –

С. 46-47.

3 Современная экономика. Многоуровневое учебное пособие /Под ред. О. Ю. Мамедова. – Ростов-на-Дону: «Феникс», 1997. – С. 36-39.

#### **Вариант 4**

**Задание 1. Определите категории:** общество с дополнительной ответственностью, потребности, "система участия", поглощение, редкость благ.

**Задание 2. Теоретический вопрос.** Характеристика современных бумажно-денежных систем. Методы определения и регулирования валютных курсов.

**Задание 3. Упражнение.** Постройте кривую производственных возможностей экономики острова, на котором 10 человек собирают ежедневно 500кг. кокосов или 250кг. черепаховых яиц. Как сдвинется кривая, если на остров ураганом будет повреждена примерно половина кокосов?

**Задание 4. Задача.** Авансированный капитал равен 750 тыс. долларов, на приобретение средств производства затрачено 350 тыс. долларов, нанято 8 наемных рабочих, норма прибавочной стоимости -300%. Сколько новой стоимости создает один рабочий?

**Задание 5. Задача.** Капитал головной компании составляет – 200 млн.долл., контрольный пакет акций – 25%. Материнская компания скупил контрольные пакеты акций пяти дочерних компаний:

- у первой – на сумму 4 млн.долл. /30% акционерного капитала/;
- у второй – на сумму 8 млн.долл. /40% акционерного капитала/;
- у третьей – на сумму 5 млн.долл. /30% акционерного капитала/;
- у четвертой – на сумму 4 млн.долл. /25% акционерного капитала/;
- у пятой – на сумму 9 млн.долл. /40% акционерного капитала/;

Подсчитайте: уставный капитал каждой дочерней компании, общую сумму подчиненного капитала и сопоставьте с ним собственный капитал инвестора, скупившего контрольный пакет акций головной компании. .

**Задание 6. Сложная задача.** Украинский турист собрался выехать в Германию на отдых. Курс гривни к марке на момент его выезда из страны составлял 2,5 гривни за марку, курс гривни к доллару составлял 5,68 гривни за доллар. У туриста было личных сбережений на сумму 2840 гривень, которые он собрался взять с собой в поездку. В ФРГ курс марки к доллару составляет 2,19 марки за доллар, курс гривни к марке - 2,7. Как выгоднее поступить туристу:

- а) поменять свои гривни на марки в Украине;
- б) поменять гривни на марки в Германии;
- в) поменять гривни на доллары в Украине, а доллары на марки в Германии ? Обоснуйте свой ответ расчетами.

### **Задание 7. Тесты**

1 Почему на практике контрольный пакет акций может составлять и менее 5% от их общего количества?

- а) потому, что далеко не все акционеры посещают ежегодные общие собрания;
- б) все зависит только от соотношения простых и привилегированных акций;
- в) может быть так, что акции, выпущены с низким номиналом и распространены среди очень большого количества держателей.

2 В чем состоят преимущества малых предприятий перед крупными?

- а) МП являются более гибкими и быстрее приспосабливаются к изменениям рыночной конъюнктуры;
- б) на МП выше производительность труда;
- в) на МП выше интенсивность труда;
- г) все предыдущие ответы верны;



д) все предыдущие ответы неверны.

3 К какому способу увеличения прибавочной стоимости относится рост производительности труда в отрасли?

а) относительная прибавочная стоимость;

б) абсолютная прибавочная стоимость;

в) избыточная прибавочная стоимость;

г) все предыдущие ответы неверны.

4 Чем бумажные деньги отличаются от золотых:

а) бумажные деньги выполняют только функцию средства обращения, а золотые деньги выполняют все функции денег;

б) золотые деньги являются товаром-эквивалентом, а бумажные деньги являются только деньгами, способными лишь к оплате купленных товаров;

в) бумажные деньги являются декретивными, а золотые таковыми не являются;

г) верны ответы а) и б);

д) верны ответы б) и в);

е) верны ответы а) и в);

ж) все предыдущие ответы верны.

5 Золотое обращение существует в условиях:

а) золотодевизного стандарта;

б) золотослиткового стандарта;

в) золотомонетного стандарта;

г) золотодолларового стандарта;

д) все ответы верны.

### **Литература ко второму вопросу**

1 Конспект лекций по курсу «Политическая экономия» для студентов экономических специальностей академии/ Сост. О. К. Гаршина. –

Краматорск: ДГМА; ЗАО «НКМЗ», 2000. –С. 34-37.

## Вариант 5

**Задание 1. Определите категории:** абсолютная прибавочная стоимость, государственная собственность, распоряжение, арендная плата, переменный капитал.

**Задание 2. Теоретический вопрос.** Теория капиталистической эксплуатации Карла Маркса.

**Задание 3. Упражнение.** Товар А обменивается на 10 единиц товара Б. Как изменится меновое отношение, если производительность труда в производстве товара Б повысится в 2 раза, а в производстве товара С понизится в 1,5 раза?

**Задание 4. Задача.** Пусть постоянный капитал - 400 ед., вновь созданная стоимость -300 ед., переменный капитал- 100. Определите: прибавочную стоимость, стоимость товара, норму прибавочной стоимости.

**Задание 5. Задача.** В Украине валютный курс гривни к рублю составляет 185 грн. за 1000 рублей. В России курс рубля к доллару – 29,5 рубля за 1 доллар. Посчитайте курс гривни к доллару.

**Задание 6. Сложная задача.** Уставный капитал компании – 250 млн. рублей. Определяемая прибыль, подлежащая распределению между акционерами, составляет 29 млн. рублей. Выпущено 4 млн. акций. Сложившаяся ставка банковского процента – 12%. Определите:

- а) какова номинальная стоимость акции?
- б) каков ожидаемый размер дивиденда?
- в) каков примерный курс акции?
- г) какова величина учредительской прибыли при продаже 85% акций?

### Задание 7. Тесты

1 Будут ли государственные предприятия всегда менее эффективны, чем частные? •

- а) да, поскольку бастуют сейчас только государственные служащие;
- б) нет, так как в ряде отраслей производственной и социальной инфраструктуры требуется централизованное управление из единого центра;
- в) все зависит от отрасли экономики;
- г) все предыдущие ответы неверны.

2 Какова доля риска личного имущества в случае банкротства партнерства?

- а) ограничена долей в уставном капитале;
- б) ничем не ограничена, владелец рискует всем имуществом;
- в) закреплена такой степенью ответственности, которая зафиксирована в уставе предприятия.

3 Чем облигация отличается от акции?

- а) реквизитами;
- б) сроками действия;
- в) по облигации платят фиксированный доход, а дивиденд на акцию зависит от дивидендной политики корпорации;
- г) все предыдущие ответы верны;
- д) все предыдущие ответы неверны.

4 Полное использование всех ресурсов на кривой производственных возможностей показывает любая:

- а) точка, лежащая вне кривой производственных возможностей;
- б) точка, лежащая внутри кривой производственных возможностей;
- в) точка, лежащая на кривой производственных возможностей;
- г) точка, лежащая на кривой производственных возможностей, в которой достигается наиболее полное удовлетворение потребностей членов общества.

5 Какой из приведенных списков факторов производства точнее:

- а) земля, труд, капитал, рабочая сила, управление;
- б) земля, труд, управление, средства производства, технология,

предпринимательство;

в) ресурсы, технология, предпринимательство;

г) земля, труд, капитал, технология, информация, предпринимательство?

### Литература ко второму вопросу

1 Конспект лекций по курсу «Политическая экономия» для студентов экономических специальностей академии/ Сост. О. К. Гаршина. – Краматорск: ДГМА; ЗАО «НКМЗ», 2000. –С. 40-43.

### Вариант 6

**Задание 1. Определите категории:** кооперативная собственность, товарищества на паях, приватизация, необходимое рабочее время, масса прибавочной стоимости.

**Задание 2. Теоретический вопрос.** Акции и облигации: сущность, виды, особенности экономического положения акционеров и облигационеров.

**Задание 3. Упражнение.** Как изменится меновая стоимость товаров 50 карандашей =18 тетрадей, если:

а) стоимость карандашей возрастет в два раза?

б) стоимость тетрадей упадет в два раза?

в) стоимость карандашей упадет в два раза, а стоимость тетрадей возрастет в два раза?

г) стоимость карандашей возрастет в два раза, а стоимость тетрадей упадет в два раза? Что такое меновая стоимость?

**Задание 4. Задача.** Наемный рабочий создал своим трудом новую стоимость в 400 долл.; норма прибавочной стоимости составляет 300%. Какова величина заработной платы рабочего? Какую сумму прибавочной

стоимости присваивает капиталист?

**Задание 5. Задача.** Допустим, что сумма цен реализуемых товаров равна 91,6 млрд. грн., сумма цен товаров, проданных в кредит, - 1,6 млрд. грн. ; сумма платежей наличными деньгами – 7 млрд. руб.; сумма платежей по безналичным расчетам составляет  $\frac{4}{5}$  всей суммы налично-денежных платежей, скорость оборота денег – 10. Определите количество денег, необходимое для обращения?

**Задание 6. Сложная задача.** Первоначально рабочий день составлял 8 часов, причем прибавочное время на 1 час больше необходимого. Один час труда создает стоимость в 4 доллара. Капиталисту удалось за счет удлинения рабочего дня получить дополнительно 8 долларов. На сколько процентов возросла норма прибавочной стоимости?

### **Задание 7. Тесты**

1 Каковы преимущества поглощений и слияний?

- а) повышается конкурентоспособность новой компании;
- б) увеличивается доля контроля рынка;
- в) могут развиваться новые направления деятельности компании;
- г) увеличиваются возможности для инвестирования капитала;
- д) все предыдущие ответы верны;
- е) все предыдущие ответы неверны.

2 Какова доля риска личного имущества в случае банкротства корпорации?

- а) ограничена долей в уставном капитале;
- б) ничем не ограничена, владелец рискует всем своим имуществом;
- в) закреплена такой степенью ответственности, которая зафиксирована в уставе предприятия.

3 Для студентов альтернативную ценность обучения в академии отражает:

- а) размер стипендии;
- б) максимальный заработок, который можно получать, бросив учебу;
- в) затраты государства на образование среднестатистического

специалиста;

г) затраты родителей на содержание студента.

4 Характеристиками экономического блага выступают:

а) способность удовлетворять потребность;

б) редкость;

в) ценность;

г) верно все указанное.

5 Укажите денежную систему (системы), в которой ремедиум имеет наиболее важное значение:

а) биметаллизм;

б) золотой стандарт;

в) бумажно-денежная система;

г) все предыдущие ответы верны;

д) верны ответы а и б;

е) все предыдущие ответы неверны.

### **Литература ко второму вопросу**

1 Современная экономика. Многоуровневое учебное пособие /Под ред. О. Ю. Мамедова. – Ростов-на-Дону: «Феникс», 1997. – С. 325-327.

2 Основи економічної теорії/ За ред. проф. Мочерного С.В.- Тернопіль: АТ “Тарнекс”, 1993. – С. 459-462.

### **Вариант 7**

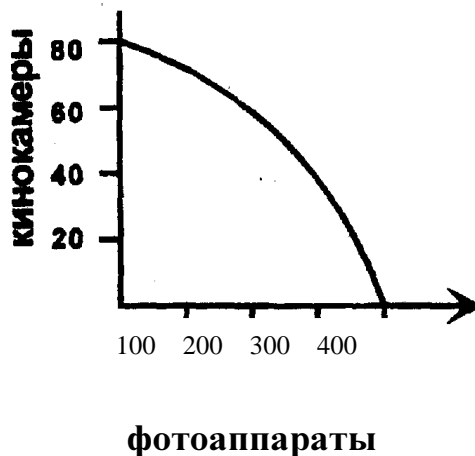
**Задание 1. Определите категории:** относительная прибавочная стоимость, эксплуатация, консорциум, общество с неограниченной ответственностью, корпорация.

**Задание 2. Теоретический вопрос.** Причины возникновения и функции

акционерной собственности. Учредители АО. Уставной капитал: функции и пути формирования.

**Задание 3. Упражнение.** Кривая производственных возможностей экономики включает два товара: фотоаппараты и кинокамеры. Найдите точки на графике для следующих комбинаций производства двух товаров и определите эффективный, неэффективный и невозможный варианты производства:

- а) 60 кинокамер и 200 фотоаппаратов;
- б) 60 фотоаппаратов и 80 кинокамер;
- в) 300 фотоаппаратов и 35 кинокамер;
- г) 300 фотоаппаратов и 40 кинокамер;
- д) 58 фотоаппаратов и 250 кинокамер» ^



**Задание 4. Задача.** В Украине валютный курс гривни к рублю составляет 190 грн. за 1000 рублей, а курс гривни к доллару – 5,45 грн за 1 доллар. Посчитайте курс рубля к доллару.

**Задание 5. Задача.** Рабочий день составляет 8 часов, необходимое рабочее время 4 часа. Предположим, что капиталисту удалось удлинить рабочий день 10 часов. На сколько процентов возросла степень эксплуатации

и какой метод увеличения прибавочной стоимости применил капиталист?

**Задание 6. Сложная задача.** В состав крупного имущественного комплекса входит три завода, стоимости которых равны соответственно 10, 20, 30 млн. ден. ед. Все три завода сдаются в аренду, причем имущество первого завода почти полностью изношено, оборудование второго завода изношено наполовину, а третий завод недавно введен в действие. Амортизационные отчисления составляют 10% от стоимости объекта, коэффициент загрузки оборудования второго завода - 0,8. Арендный процент равен 5%. Арендодатель запросил арендную плату в сумме - 8 млн. ден. ед. Объясните, пойдет ли арендатор на такие условия аренды? Докажите рациональность размера арендной платы со стороны арендатора расчетами.

### **Задание 7. Тесты**

1 Какая из форм предпринимательской деятельности влечет отказ от права на коммерческую тайну?

- а) кооператив;
- б) товарищество на паях;
- в) корпорация;
- г) индивидуальная частная фирма;
- д) ни одна из перечисленных форм предпринимательства.

2 На какой концептуальной основе базируется законодательство Украины по приватизации государственного имущества?

- а) поровну разделить все государственное имущество между гражданами;
- б) передать государственное имущество трудовым коллективам, в пользовании которых оно находится;
- в) продать государственное имущество всем желающим;
- г) все предыдущие ответы верны;
- д) все предыдущие ответы неверны.

3 Кто должен контролировать деятельность корпорации?



- а) вкладчики;
- б) менеджеры;
- в) государство;
- г) общественные организации.

4 Закон возрастания альтернативных издержек действует, если кривая производственных возможностей имеет:

- а) выпуклую форму;
- б) форму прямой;
- в) вогнутую форму;
- г) любую форму.

5 Золотое обращение существует в условиях:

- а) золотодевизного стандарта;
- б) золотослиткового стандарта;
- в) золотомонетного стандарта;
- г) золотодолларового стандарта;
- д) все ответы верны.

### **Литература ко второму вопросу**

1 Закон Украины «О хозяйственных обществах». – Ведомости Верховного Совета Украины, 1991, №49

### **Вариант 8**

**Задание 1. Определите категории:** прибавочное время, избыточная прибавочная стоимость, оффшорная компания, акция, кооперативная собственность.

**Задание 2. Теоретический вопрос.** Управление корпорацией. Модели корпоративной структуры. «Система участия».

**Задание 3. Упражнение.** Постройте кривую производственных возможностей экономики острова, на котором 10 человек собирают ежедневно или 800 кг бананов или 400 кг ананасов. Как сдвинется кривая производственных возможностей экономики, если на остров будет завезена техника, позволяющая собирать ежедневно 1600 кг бананов?

**Задание 4. Задача.** Чтобы произвести единицу товара, одна группа товаропроизводителей затрачивает на ее производство-2, вторая-4, третья-5 часа. Определите общественно-необходимое время на производство товара, если известно, что 1-я группа изготовила- 40, 2-я - 640, 3-я - 120 единиц товара. Каково социально-экономическое положение каждой группы товаропроизводителей?

**Задание 5. Задача.** Авансированный капитал равняется 224 тыс. долл., постоянный капитал-124 тыс. долл., прибавочная стоимость- 200 тыс. долл. Определите норму прибавочной стоимости и стоимость товара.

**Задание 6. Сложная задача.** Капитал головной компании составляет – 150 млн. долл.; контрольный пакет акций – 30%. Материнская компания – на 60 млн. долл. скупил контрольные пакеты акций четырех дочерних компаний, составляющие по 25% от их акционерного капитала. В свою очередь дочерние компании приобрели на 30 млн. долл. контрольные пакеты акций 15 внучатых компаний, составляющие – 20% от их акционерного капитала. Подсчитайте общую сумму подчиненного капитала. Сколько процентов по отношению к подчиненному капиталу составляет собственный капитал инвестора, скупившего контрольный пакет акций материнской компании?

### **Задание 7. Тесты**

1 Какие возможности для инвестирования капитала предоставляет индивидуальная частная фирма по сравнению с другими типами предприятий?

а) возможности для инвестирования лучше, чем в корпорации, так как

подходный налог, который платит индивидуальная частная фирма, ниже, чем налог на прибыль корпораций;

б) все зависит от стратегии экономического развития фирмы, выбранной ее владельцем;

в) индивидуальная частная фирма характеризуется скромными финансовыми возможностями.

2 Какова доля риска личного имущества в случае банкротства индивидуальной частной фирмы?

а) ограничена долей в уставном капитале;

б) ничем не ограничена, владелец рискует всем своим имуществом;

в) закреплена такой степенью ответственности, которая зафиксирована в уставе предприятия.

3 Повышение курса национальной валюты способствует:

а) выгодному экспорту, дорогому импорту;

б) невыгодному экспорту, дешевому импорту;

в) все предыдущие ответы неверны.

4 Предприятие выпускает 5% продукции отрасли. Что произойдет с индивидуальной и общественной стоимостью товара, если производительность труда на этом предприятии повысится в два раза, а интенсивность труда понизится в два раза?

а) индивидуальная стоимость понизится, общественная останется неизменной;

б) индивидуальная стоимость останется неизменной, общественная понизится;

в) индивидуальная и общественная стоимость понизятся;

г) индивидуальная и общественная стоимость останутся неизменными

5 Альтернативные затраты нового кафе - это:

а) оплата его персонала и охраны;

б) цена строительства кафе в будущем году;

в) цена других товаров и услуг, производство которых принесенное в жертву строительству этого кафе;

г) изменение реальной ставки налога, который выплачивается из дохода кафе.

### **Литература ко второму вопросу:**

1 Макконнелл К., Брю С. Экономикс. Т.1. - М.: Республика, 1992. - С. 110-112.

### **Вариант 9**

**Задание 1. Определите категории:** приватизационный сертификат, акционирование государственного предприятия, кооператив, открытая корпорация, именная акция.

**Задание 2. Теоретический вопрос.** Товар, рабочая сила и его свойства. Экономическая природа капитала, его структура.

**Задание 3. Упражнение.** Программист Иванова зарабатывает в час 12 руб. Ее мать на пенсии. В магазине за говядиной по 8 руб. за килограмм нужно стоять час, за говядиной по 12 руб. за килограмм очереди нет. При каком объеме покупок рационально приобретение более дешевой говядины для программиста Ивановой? Ее матери?

**Задание 4. Задача.** В 1960 году один доллар США обменивался на 250 японских иен. Определите масштаб цен Японии, если масштаб цен США составлял 0,888 грамм золота. Как изменится валютный курс доллара к иене, если доллар девальвируют на 10% ?

**Задание 5. Задача.** В промышленности Южной Кореи норма прибавочной стоимости составляет около 400%, продолжительность рабочей недели-40 часов. Какое время в течение недели рабочий работает на себя?

**Задание 6. Сложная задача.** Рассчитайте размер арендной платы для сложного имущественного комплекса стоимостью 4500000 долларов;

объекты малой степени износа в нем составляют 50%, средней степени износа - 25% и высокой степени износа - 25%. Как изменится размер арендной платы, если к арендодателю обратятся одновременно 2, 3 или 4 арендатора? Арендный процент равен 5%, норма амортизации - 20%,  $K_0=0,6$ ;  $K_3=1$ . Арендный договор не предусматривает выкуп объекта.

### **Задание 7. Тесты**

1. Какая из форм предпринимательства не исключает появления несовместимости интересов?
  - а) акционерное общество;
  - б) товарищество на паях;
  - в) индивидуальная частная фирма;
  - г) все формы предпринимательства.
2. Какую информацию о бизнесе предоставляет общественности индивидуальная частная фирма?
  - а) никакой;
  - б) ежегодно публикует финансовые отчеты;
  - в) информирует своих рабочих.
3. Что из следующего перечня является неэкономическим благом:
  - а) подводная лодка;
  - б) досуг и развлечение;
  - в) энергия ветра;
  - г) знания?
4. Какую функцию выполняют кредитные деньги:
  - а) средство обращения;
  - б) средство платежа;
  - в) средство накопления;
  - г) мера стоимости;
  - д) все ответы неверны.
5. Предельная полезность – это:

- а) способность блага удовлетворять ту или иную потребность человека;
- б) субъективная оценка блага индивидуумом;
- в) сумма полезностей равновеликих частей блага;
- г) наименее настоятельная потребность, удовлетворяемая последним из потребляемых экземпляров блага данного рода;

### **Литература ко второму вопросу**

- 1 Конспект лекций по курсу «Политическая экономия» для студентов экономических специальностей академии/ Сост. О. К. Гаршина. – Краматорск: ДГМА; ЗАО «НКМЗ», 2000. –С. 39-40.
- 2 Основи економічної теорії/ За ред. проф. Мочерного С.В. –Тернопіль: АТ “Тарнекс”, 1993. – С. 301-306.

### **Вариант 10**

**Задание 1. Определите категории:** закрытая корпорация, контрольный пакет акций, дивиденд, номинал акции, лизинг.

**Задание 2. Теоретический вопрос.** Норма и масса прибавочной стоимости. Способы увеличения прибавочной стоимости.

**Задание 3. Упражнение.** В какой-то стране производятся только два товара –велосипеды и стиральные машины, при чем все имеющиеся ресурсы используются полностью. Варианты производственных комбинаций приведены в таблице. Начертите кривую производственных возможностей. Найдите альтернативные издержки. Отыщите на графике точки М (80 велосипедов и 30 стиральных машин) и А (30 велосипедов и 20 стиральных машин). О чем свидетельствуют эти точки?

Варианты выбора	Велосипеды (шт)	Стиральные машины (шт)	Альтернативные издержки
А	100	0	
Б	90	10	
В	75	20	
Г	55	30	
Д	0	40	

**Задание 4. Задача.** Трудовой мигрант заработал в России 1500 долларов. Валютный курс рубля к доллару на момент получения зарплаты составлял 27,45 рублей за 1 доллар. В Украине сложились следующие обменные курсы: 5,62 гривни за 1 доллар и 0,189 гривни за 1 рубль. Как лучше конвертировать доллары в гривни? Изменится процесс конвертации, если в России валютный курс рубля к доллару повысится до 2,5 рубля за 1 доллар, а обменные курсы в Украине будут зафиксированы на уровне: 5,5 гривни за 1 доллар и 0,2 гривни за 1 рубль

**Задание 5. Задача.** Стоимость товара составляет 200 денежных единиц, постоянный капитал-100 ден. ед., норма прибавочной стоимости-100%. Определите новую стоимость, переменный капитал и прибавочную стоимость.

**Задание 6. Сложная задача.** Уставный капитал открытого акционерного общества состоит из 400000 обыкновенных акций номиналом 25 долларов; 10000 многоголосых акций номиналом 100 долларов (каждая акция дает 4 голоса на общем собрании АО) и 200000 привилегированных акций номиналом 12 долларов. Определите, на какую сумму нужно приобрести акции, чтобы обеспечить безусловный контроль над капиталом акционерного общества? Сколько процентов составляет контрольный пакет акций?

## Задание 7. Тесты

1 Какой из форм предпринимательства свойственно отсутствие возможности контроля списков лиц, владеющих ценными бумагами да ной фирмы?

- а) партнерство;
- б) корпорация;
- в) индивидуальная частная фирма.

2 В каком порядке удовлетворяются претензии кредиторов при ликвидации предприятия? (Поставьте 1,2, 3).

- задолженность предприятия перед бюджетом;
- задолженность перед наемным персоналом фирмы;
- задолженность перед кредиторами.

3 В каком соотношении обычно находятся цена и стоимость рабочей силы?

- а) цена рабочей силы обычно меньше ее стоимости;
- б) цена рабочей силы обычно больше ее стоимости;
- в) цена рабочей силы равна ее стоимости;
- г) для ответа недостаточно информации.

4 На линии производственных возможностей рост производства одного вида продукта сочетается :

- а) с уменьшением производства другого вида продукта;
- б) с ростом производства другого вида продукта;
- в) с постоянным объемом производства другого вида продукта;
- г) возможен любой из указанных вариантов.

5 С увеличением количества единиц блага имеющегося в распоряжении потребителя общая полезность этого блага:

- а) уменьшается;



- б) возрастает;
- в) остается неизменной;
- г) все ответы неверны.

### **Литература ко второму вопросу**

1 Конспект лекций по курсу «Политическая экономия» для студентов экономических специальностей академии/ Сост. О. К. Гаршина. – Краматорск: ДГМА; ЗАО «НКМЗ», 2000. –С. 42-43.

## КОНТРОЛЬНАЯ РАБОТА N 2 ДЛЯ СТУДЕНТОВ ГРУПП УСКОРЕННОГО ОБУЧЕНИЯ

### Вариант 1

**Задание 1. Определите категории:** аграрные отношения, цена земли, законы Энгеля, абсолютная рента, асимметрия информации .

**Задание 2. Теоретический вопрос.** Функции ссудного капитала. Ссудный процент. Границы колебания нормы ссудного процента и факторы, на нее влияющие. Механизм образования банковской прибыли.

**Задание 3. Упражнение.** Домохозяйка рассматривает два варианта получения денежного выигрыша. Возможные исходы и их вероятности по вариантам отражены в таблице:

	Исходы	Вероятности
Вариант 1	200 грн. 80 грн.	0,5 0,5
Вариант 2	0 грн. 1000 грн.	0,95 0,05

1) Какой вариант выберет домохозяйка, максимизирующий денежный выигрыш?

2) Какой вариант будет выбран, если домохозяйка стремится купить стиральную машину, цена которой превышает 1000 грн.?

**Задание 4. Задача.** Основной капитал предприятия составляет 35 млн. ден. ед., оборотный 25 млн. ден. ед., переменный 10 млн. ден. ед. Определите сумму авансированного капитала и его органическое строение.

**Задание 5. Задача.** Авансированный капитал составляет 200 ден. ед. при органическом строении капитала 3:1; норма прибавочной стоимости –

200%. Ежегодно 25 ден. ед. прибавочной стоимости накапливаются. Определите норму накопления.

**Задание 6. Сложная задача.** Имеются три участка земли одинакового плодородия, но различные по расположению к рынку сбыта. На всех участках получен одинаковый урожай -2000 ц. Затраты на производство на всех участках • 19600. Транспортные расходы на 1-ом.участке составляют 4400, на 2-ом -2400, на 3-м -400. Средняя норма прибыли -20%. Определить величину дифференциальной земельной ренты I по местоположению.

### **Задание 7.Тесты**

1 Какая форма или какие формы ренты существуют на Украине?

- а) монопольная;
- б) дифференциальная;
- в) абсолютная;
- г) несельскохозяйственные виды ренты;
- д) монопольная, дифференциальная и несельскохозяйственные виды ренты;
- е) абсолютная, дифференциальная и монопольная ренты.

2 Что произойдет с потребительной стоимостью и стоимостью средства труда, если растет производительность труда, производство станков и оборудования становится более дешевым?

- а) средство труда утратило потребительную стоимость и стоимость;
- б) потребительная стоимость сохраняется, а стоимость уменьшается;
- в) потребительная стоимость исчезла, а стоимость сохраняется;
- г) потребительная стоимость и стоимость остались без изменений.

3 Студент Зайцев ездит в институт на электричке. Стоимость проезда 1 грн. Зайцев оценивает вероятность быть пойманным контролером в 15%. Штраф за безбилетный проезд равен 10 грн. В этих условиях:

- а) студент купит билет, так как ожидаемый штраф больше платы за проезд;

- б) студент не будет покупать билет, так как ожидаемый штраф меньше платы за проезд;
- в) если Зайцев не приемлет риск, то в любом случае он купит билет;
- г) вероятность 15% является субъективной и принимать решение на ее основе нельзя.

4 Какой вид спроса сложился на рынке покупателей, если потребность в чем-либо невозможно удовлетворить с помощью имеющихся на рынке товаров и услуг?

- а) отрицательный спрос;
- б) скрытый спрос;
- в) чрезмерный спрос;
- г) нерегулярный спрос.

5 Что является основной характеристикой фермерского хозяйства?

- а) товарный характер производства;
- б) хозяйство ведется на собственной земле;
- в) в хозяйстве используется наемный труд;
- г) все ответы неверны.

### **Литература ко второму вопросу**

- 1 Макконнелл К., Брю С. Экономикс. Т.2. - М.: Республика, 1992. - С. 179-185.
- 2 Р. М. Нуреев. Курс микроэкономики. Учебник для вузов. – 2-е изд., изм. – М.: НОРМА (Издательская группа НОРМА–ИНФРА М), 2000. – С. 319-329.

### **Вариант 2**

**Задание 1 .Определите категории:** ссудный капитал, земельная рента, фермерское хозяйство, чистый риск, заработная плата.

**Задание 2. Теоретический вопрос.** Монополия на землю как объект хозяйства и дифференциальная земельная рента I.

**Задание 3. Упражнение.** В 1989 году убытки от пожаров в США составили 8 млрд. долл. Они были оплачены страховыми компаниями, продавших предпринимателям и населению страховых полисов на сумму 7 млрд. долл. Инвестирование доходов о продажи страховых полисов в ценные бумаги, позволило страховым компаниям получить доход примерно в 2 млрд. долл. Определите экономические результаты деятельности страховых компаний (понесли они убытки или получили доходы) и рассчитайте норму прибыли (убытка). Выгодно ли заниматься страховым бизнесом?

**Задание 4. Задача.** Капитал банка -2млрд. долл., в том числе собственный -200 млн-дол. Банковский процент равен 5%, а ссудный процент -12%. Подсчитайте норму и массу прибыли банка.

**Задание 5. Задача.** Норма прибавочной стоимости на предприятии составляет 200%; органическое строение капитала – 9/1. определите норму прибыли и годовую норму прибыли, если известно, что капитал обращается три раза в год.

**Задание 6. Сложная задача.** Совокупные массы промышленного и торгового капитала – 800 ед., авансированные при средней норме прибыли 15%. Масса промышленной прибыли 108 ед. За какую сумму торговые капиталисты должны приобрести и продать произведенную продукцию, чтобы получить среднюю прибыль?

### **Задание 7. Тесты**

1 Что является источником земельной ренты?

- а) земля;
- б) монополия на землю как объект хозяйства;
- в) производительный труд работников сельского хозяйства;
- г) более низкое органическое строение капитала в сельском хозяйстве.

2 Если Вам нужно быстро и значительно увеличить выпуск продукции,

какую систему сдельной заработной платы Вы выберете для своих рабочих?

- а) прямая сдельная;
- б) сдельно-премиальная;
- в) сдельно-прогрессивная;
- г) коллективная сдельная;
- д) косвенная сдельная;
- е) аккордная.

3 Если отрасль полностью автоматизирована, и в ней не используется живой труд, то:

- а) в отрасли будет сформирована средняя прибыль, а прибавочной стоимости не будет;
- б) в отрасли не будет ни прибавочной стоимости, ни прибыли;
- в) прибавочная стоимость будет создана, а прибыли не будет;
- г) в отрасли будут созданы и прибавочная стоимость и прибыль.

4 Если господин Безрисков не приемлет риск, то:

- а) он никогда не будет выбирать рискованные варианты действий;
- б) он выберет рискованный вариант;
- в) из двух вариантов будет выбираться менее рискованный.

5 От чего не зависит длительность жизненного цикла товаров?

- а) от характера выпускаемой продукции;
- б) от объема стартового капитала;
- в) от темпов развития НТП в отрасли и совершенствования действующих технологий;
- г) от товарной политики конкурентов.

### **Литература ко второму вопросу**

1 Конспект лекций по курсу «Политическая экономия» для студентов экономических специальностей академии/ Сост. О. К. Гаршина. – Краматорск: ДГМА; ЗАО «НКМЗ», 2000. –С. 52-53.

2 Основи економічної теорії/ За ред. проф. Мочерного С.В. –Тернопіль: АТ “Тарнекс”, 1993. – С. 346-348.

### Вариант 3

**Задание 1 .Определите категории:** ломбардный кредит, сдельно-прогрессивная система заработной платы, закладной лист, крестьянское хозяйство, издольщина.

**Задание 2. Теоретический вопрос.** Интенсификация сельскохозяйственного производства и дифференциальная земельная рента II.

**Задание 3. Упражнение.** Допустим, что Боб, Кэтрин, Дженни и Билл получают доходы в размере 400, 200, 80 и 40 долл. соответственно. Постройте кривую Лоренца для такой экономики из четырех человек и дайте необходимые пояснения.

**Задание 4. Задача.** Вложения капитала в сельское хозяйство составляет 400 ед., в том числе переменный капитал -80. Степень эксплуатации -200%, средняя норма прибыли 15%. Определите величину абсолютной ренты.

**Задание 5. Задача.** Авансированный капитал – 80 млн. долл., стоимость сырья, топлива, вспомогательных материалов – 10 млн. долл. Машины имеют средний срок службы – 10 лет. Определите размер амортизационного фонда через 5 лет, если известно, что фонд заработной платы составляет 20 млн. долл.

**Задание 6. Сложная задача.** Авансированный капитал составляет 400 тыс. ден. ед. при органическом строении капитала 4:1; степень эксплуатации – 100%, норма накопления – 50%. Каковы будут размеры капитала к началу третьего года его функционирования?

### Задание 7.Тесты

1 Чем монопольная рента отличается от дифференциальной?

а) причиной возникновения;

- б) условиями образования;
- в) источником;
- г) механизмом образования;
- д) все ответы верны;
- е) все предыдущие ответы неверны.

2 Если стоимость постоянного капитала уменьшилась, то:

- а) издержки производства и стоимость товара уменьшились;
- б) издержки производства уменьшились, а стоимость не изменилась;
- в) стоимость уменьшилась, а издержки производства не изменились;
- г) издержки производства и стоимость не изменились.

3 Объединение индивидуальных рисков можно наблюдать при страховании в данной местности автомобиля и его владельца от:

- а) угона и аварии;
- б) землетрясения;
- в) введения дорожных пошлин;
- г) подорожание бензина.

4 Какой вид спроса сложился на рынке покупателей, если большая часть потребителей недолюбливает товар и согласна на определенные издержки, лишь бы избежать его?

- а) отсутствие спроса;
- б) отрицательный спрос;
- в) падающий спрос;
- г) нерегулярный спрос.

5 В каких пределах изменяется норма ссудного процента?

- а) от нуля до средней нормы прибыли;
- б) выше средней нормы прибыли, ниже банковского процента;
- в) между банковским процентом и средней нормой прибыли;
- г) все предыдущие ответы верны;
- д) все предыдущие ответы не верны.



### Литература ко второму вопросу

1 Конспект лекций по курсу «Политическая экономия» для студентов экономических специальностей академии/ Сост. О. К. Гаршина. – Краматорск: ДГМА; ЗАО «НКМЗ», 2000. –С. 54-55.

2 Основи економічної теорії/ За ред. проф. Мочерного С.В.- Тернопіль: АТ “Тарнекс”, 1993. – С. 348-350.

### Вариант 4

**Задание 1. Определите категории:** ипотечный кредит, косвенная сдельная система оплаты труда, крестьянское хозяйство, распределение, банковский процент.

**Задание 2. Теоретический вопрос.** Монопольная рента. Механизм изъятия и присвоения земельной ренты в разных типах хозяйств.

**Задание 3. Упражнение.** Цена земельного участка возросла с 1000 до 1500 ден. ед., за то же время норма банковского процента снизилась с 5% годовых до 3% годовых. Как изменилась рента с этого участка земли?

**Задание 4. Задача.** Величина авансированного капитала – 200 тыс. долл., переменного капитала – 40 тыс. долл. Норма прибавочной стоимости – 100%. Как изменится норма прибыли, если: а) норма прибавочной стоимости возрастет в 1.5 раза; б) органическое строение капитала возрастет до 9:1; в) скорость оборота капитала увеличивается и составит 2 оборота в год.

**Задание 5. Задача.** Промышленный капитал равен 270 млрд. долл., торговый капитал 30 млрд. долл., масса произведенной прибавочной стоимости 50 млрд. Рассчитайте среднюю норму прибыли, а также цены, по которым продают свои товары промышленные и торговые капиталисты.

**Задание 6. Сложная задача.** В три отрасли экономики авансированы равные капиталы – по 200 ден. ед. при органическом строении капитала в первой отрасли 4/1, во второй – 3/1, в третьей – 1/1. определите среднюю

норму прибыли и цену производства, если норма прибавочной стоимости во всех отраслях составляет 200%.

### **Задание 7.Тесты**

1 Чем в каждый данный момент ограничено количество основного фактора производства в сельском хозяйстве -земли?

- а) географическими условиями;
- б) границами;
- в) климатическими зонами;
- г) все предыдущие ответы верны;
- д) все предыдущие ответы неверны.

2 Что произойдет с ценами на сельскохозяйственную продукцию, если уйдут из оборота лучшие земли?

- а) цены повысятся;
- б) цены понизятся;
- в) цены не изменяется.

3 Какую зависимость иллюстрирует кривая Лоренца?

- а) кривая Лоренца иллюстрирует изменение степени неравенства;
- б) кривая Лоренца показывает долю каждой из групп населения в совокупном доходе общества;
- в) кривая Лоренца показывает, какой процент дохода приходится на каждую из семей;
- г) все предыдущие ответы верны;
- д) все ответы неверны.

4 Укажите фактор, не влияющий на ставку процента:

- а) риск;
- б) срок ссуды;
- в) размер ссуды;
- г) ограничение условий конкуренции на рынке;
- д) все ответы верны;

е) все ответы неверны.

5 Возможность обособления товарного капитала из кругооборота промышленного капитала и превращение его в торговый капитал появляется потому, что:

а) торговый капитал специализируется на торговле и уменьшает затраты на реализацию товаров;

б) все функциональные формы капитала совершают свой самостоятельный кругооборот;

в) ускоряется оборот промышленного капитала.

### **Литература ко второму вопросу**

1 Конспект лекций по курсу «Политическая экономия» для студентов экономических специальностей академии/ Сост. О. К. Гаршина. – Краматорск: ДГМА; ЗАО «НКМЗ», 2000. –С. 57-58.

### **Вариант 5**

**Задание 1. Определите категории:** коммерческий кредит, частная закладная, монополия частной собственности на землю, аккордная зарплата, испольщина.

**Задание 2. Теоретический вопрос.** Собственность на землю. Типы сельскохозяйственных предприятий.

**Задание 3. Упражнение.** Предположим, что Вы владеете автомобилем, замена которого обойдется в 3000 долларов. Вероятность того, что автомобиль будет украден в течение года, равна  $1/20$ . каков будет минимальный страховой взнос? Объясните, почему сумма реального страхового взноса будет выше.

**Задание 4. Задача.** Промышленный капиталист использовал для производства товаров ссуду в 300 тыс. долл. Органическое строение капитала

4:1, степень эксплуатации 300%. Ссудный процент равен 12%. Определите предпринимательский доход и сумму ссудного процента.

**Задание 5. Задача.** Производительность базового оборудования составляет 20000 изделий в год, нового – 25000. рассчитайте процент потерь от второй формы морального износа.

**Задание 6. Сложная задача.** Имеются три участка земли, различные по плодородию, одинаковые по величине – 200 га. В каждый вложено по 10000 долл. Средняя норма прибыли – 20%. Необходимо узнать дифференциальную ренту с третьего участка, если известно, что урожай на первом участке с 1 га составил 5 центнеров, на втором – 7,5 центнеров, на третьем – 10 центнеров.

### **Задание 7. Тесты**

1 Могут ли возникнуть рентные отношения, если монополия частной собственности на землю не отделена от монополии на землю как на объект хозяйства?

- а) могут;
- б) не могут;
- в) обе монополии всегда совмещаются в одном субъекте;
- г) для ответа недостаточно информации..

2 Если на предприятии органическое строение капитала ниже, чем в среднем в национальной экономике, и оно действует в условиях совершенной конкуренции, то:

- а) прибавочная стоимость, создаваемая на предприятии, меньше средней прибыли;
- б) прибавочная стоимость, создаваемая на предприятии, больше средней прибыли;
- в) прибавочная стоимость, создаваемая на предприятии, равна средней прибыли;
- г) все предыдущие ответы неверны.

3 Предположим, что гражданин вынужден принимать решения в быстроменяющихся обстоятельствах, когда вероятность результата невозможно оценить. Что можно сказать об условиях принятия решения этим гражданином? Решения принимаются в условиях:

- а) риска;
- б) определенности;
- в) неопределенности;
- г) риска и неопределенности.

4 Если фирма намерена проводить демаркетинг, то есть изыскивать способы снижения спроса, то спрос на ее продукцию:

- а) отрицательный;
- б) чрезмерный;
- в) падающий;
- г) нерегулярный.

5 Участвуют ли ссудный и банковский капиталы в образовании средней нормы прибыли?

- а) участвуют;
- б) не участвуют;
- в) банковский капитал участвует, а ссудный нет;
- г) ссудный капитал участвует, а банковский нет.

### **Литература ко второму вопросу**

1 Конспект лекций по курсу «Политическая экономия» для студентов экономических специальностей академии/ Сост. О. К. Гаршина. – Краматорск: ДГМА; ЗАО «НКМЗ», 2000. –С. 49-51.

## Вариант 6

**Задание 1. Определите категории:** монополия хозяйствования на землю, контокоррентный кредит, монополия рента, отрицательный спрос, спекулятивный риск.

**Задание 2. Теоретический вопрос.** Неравенство в доходах. Кривая Лоренца. Принцип социальной справедливости в распределении.

**Задание 3. Упражнение.** Рекламная деятельность торговой фирмы оценивается в 200 ден. ед.; заработная плата ее служащих составляет 120 ден. ед., амортизация и содержание магазинов и торговых палаток 300. Затраты на содержание складского хозяйства ежегодно составляют 50 ден. ед., транспортировку товаров 40, погрузочно-разгрузочные работы оцениваются в 100 ден. ед. определите чистые и дополнительные издержки обращения и структуру издержек.

**Задание 4. Задача.** Нормативный срок службы объекта составляет 15 лет, а фактически он прослужил 13 лет, ликвидационная стоимость составляет 5% балансовой стоимости объекта. Определить физический износ объекта по срокам службы.

**Задание 5. Задача.** Собственный капитал банка 2 млн. долл., привлеченный – 20 млн. долл. Норма процента по ссудам – 8%, по вкладам – 4%. Расходы банка по выполнению кредитных операций – 300 тыс. долл. Определите прибыль банка и нормы банковской прибыли, если в ссуду отдается 21 млн. долл.

**Задание 6. Сложная задача.** Совокупные массы промышленного и торгового капитала – 600 ед., авансированные при средней норме прибыли 12%. Масса промышленной прибыли – 60 ед. за какую сумму торговые капиталисты должны приобрести и продать произведенную продукцию, чтобы получить среднюю прибыль?

### Задание 7. Тесты

1 Чем монополия рента отличается от абсолютной?

- а) причиной возникновения;
- б) условиями образования;
- в) источником;
- г) механизмом образования;
- д) все предыдущие ответы верны;
- е) все предыдущие ответы неверны.

2 Что произойдет с абсолютной рентой, если органическое строение капитала в сельском хозяйстве сравнивается с промышленным?

- а) повысится;
- б) понизится;
- в) не изменится;
- г) для ответа недостаточно информации.

3 Могут ли норма прибыли и норма прибавочной стоимости количественно совпадать?

- а) могут;
- б) не могут;
- в) для ответа недостаточно информации.

4 Какой из перечисленных ниже видов риска нельзя застраховать?

- а) опасность возникновения потерь в результате нетрудоспособности;
- б) опасность возникновения потерь из-за пребывания в здании;
- в) опасность возникновения потерь из-за ограничения свободной торговли;
- г) прямая потеря собственности.

5 Какой вид спроса сложился на рынке покупателей, если у организации уровень спроса выше, чем она может или хочет удовлетворить?

- а) отрицательный спрос;
- б) скрытый спрос;
- в) чрезмерный спрос;
- г) нерегулярный спрос.

### Литература ко второму вопросу

- 1 Конспект лекций по курсу «Политическая экономия» для студентов экономических специальностей академии/ Сост. О. К. Гаршина. – Краматорск: ДГМА; ЗАО «НКМЗ», 2000. –С. 63-65.
- 2 Современная экономика. Многоуровневое учебное пособие /Под ред. О. Ю. Мамедова. – Ростов-на-Дону: «Феникс», 1997. – С. 245-247.
- 3 Макконнелл К., Брю С. Экономикс. Т.2. - М.: Республика, 1992. - С. 276-279.

### Вариант 7

**Задание 1. Определите категории:** дисконтный кредит, плантационное хозяйство, абсолютная рента, нерегулярный спрос, ссудный капитал.

**Задание 2. Теоретический вопрос.** Формы распределения, не зависящие от трудового вклада. Минимальный потребительский бюджет. Государственные программы защиты малоимущих слоев населения.

**Задание 3. Упражнение.** Весь производительно-функционирующий капитал – 500 млрд. долл., в том числе 200 млрд. долл. – заемный капитал. Определите предпринимательский доход и доход ссудных капиталистов, если средняя норма прибыли 12%, а норма ссудного процента 10% годовых.

**Задание 4. Задача.** За сданный в аренду участок земли владелец ежегодно получает 1000 ф. ст. арендной платы. Определите, какую часть этой суммы составляет земельная рента, если на участке возведены постройки стоимостью 15 тыс. ф. ст., со средним сроком службы 20 лет. Ставка процента на помещенный в землю капитал – 7%.

**Задание 5. Задача.** Предприниматель установил 15 машин, стоимость каждой из них – 210 тыс. долл., а срок службы – 7 лет. Через два года в результате роста производительности труда общественная стоимость подобных машин снизилась до 140 тыс. долл. Определите размер



амортизационного фонда через 5 лет.

**Задание 6. Задача.** Собственный капитал банка составляет 20 млн. долл.; депозиты – 190 млн. долл.; банковский процент 4%. Из общей суммы располагаемых средств 200 млн. долл. банк выдал в кредит. Средняя норма прибыли в экономике 15%. Рассчитайте, какой процент банк должен взимать с заемщиков, чтобы обеспечить себе не меньше средней нормы прибыли на собственный капитал.

### **Задание 7. Тесты**

1 Как взаимосвязаны норма прибыли и норма прибавочной стоимости?

- а) если изменяется норма прибавочной стоимости, то пропорционально ей изменяется норма прибыли;
- б) если изменяется норма прибыли, то пропорционально ей изменяется норма прибавочной стоимости;
- в) норма прибыли обратно пропорциональна норме прибавочной стоимости.

2 Продавец сигнализирует о качестве продаваемой продукции:

- а) рекламными проспектами, описывающими ее преимущества перед продукцией конкурентов;
- б) финансированием благотворительных мероприятий;
- в) проводя выставки и розыгрыш своей продукции;
- г) выпуская ее с фирменным знаком.

3 Если кредит обеспечен залогом вещей или имущества, то это:

- а) ипотечный кредит;
- б) ломбардный кредит;
- в) дисконтный кредит;
- г) акцептный кредит.

4 Чем в каждый момент ограничено количество земли в сельском хозяйстве?

- а) географическими условиями;
- б) границами;

- в) достигнутым уровнем производительности в сельском хозяйстве, позволяющем при данном уровне техники и других ресурсах получать определенное количество продукции;
- г) природно-климатическими условиями.

5 Что произойдет с ценами на сельскохозяйственную продукцию, если уйдут из оборота худшие земли?

- а) цены повысятся;
- б) цены понизятся;
- в) цены не изменятся.

### **Литература ко второму вопросу**

- 1 Конспект лекций по курсу «Политическая экономия» для студентов экономических специальностей академии/ Сост. О. К. Гаршина. – Краматорск: ДГМА; ЗАО «НКМЗ», 2000. –С. 67-69.
- 2 Макконнелл К., Брю С. Экономикс. Т.2. - М.: Республика, 1992. - С. 285-287.

### **Вариант 8**

**Задание 1. Определите категории:** акцептный кредит, чрезмерный спрос, лендлордизм, земельная рента, сдельно-прогрессивная зарплата.

**Задание 2. Теоретический вопрос.** Методы управления риском. Виды страхования бизнеса.

**Задание 3. Упражнение.** Предположим, что Ник, Чарли, Джули, Лиз, Джон и Рэй получают доходы в размере 600, 300, 200, 150, 100 и 40 долл. соответственно. Постройте кривую Лоренца для такой экономики из шести человек и дайте необходимые пояснения.

**Задание 4. Задача.** Имеются три участка земли, одинаковые по

площади, но различные по плодородию. При одинаковых затратах капитала в 100 ед. Эти участки дают зерна в центнерах: 1 -5ц., 2 -7,5ц., 3 -10ц. Средняя прибыль на капитал равна 20 ед. Определите дифференциальную земельную ренту

**Задание 5. Задача.** Покупная цена оборудования – 800 тыс. долл.; срок его службы – 10 лет. Определите величину износа оборудования за год, норму амортизации и величину амортизационного фонда через 5 лет.

**Задание 6. Сложная задача.** Промышленный капиталист использовал для производства товаров ссуду в 3млн. долл. Органическое строение капитала 5:1, степень эксплуатации - 500%. Ставка ссудного процента равна 30%. Определите предпринимательский доход и сумму ссудного капитала.

### **Задание 7. Тесты**

1 Земельная рента будет расти при прочих равных условиях, если:

- а) снижается цена земли;
- б) растет спрос на землю;
- в) сокращается спрос на землю;
- г) предложение земли растет;
- д) ни при одном из этих условий,

2 В чем состоят преимущества крупных предприятий над мелкими?

- а) быстрее приспосабливаются к изменениям рыночной конъюнктуры;
- б) ниже уровень капиталовложений для создания рабочего места;
- в) больше возможностей для привлечения капитала;
- г) все предыдущие ответы верны.

3 Что из перечисленного не является способом снижения риска?

- а) диверсификация;
- б) объединение рисков;
- в) распределение рисков;
- г) асимметрия информации;
- д) все предыдущие ответы неверны.

4 Из указанных издержек обращения укажите те, которые относятся к чистым издержкам:

- а) затраты на организацию торгово-складского хозяйства;
- б) расходы на сортировку и упаковку товара;
- в) затраты на изготовление денежных знаков и обслуживание денежного обращения;
- г) амортизация складских помещений и торгового инвентаря.

5 Какой документ выдает заемщик банкиру при ипотечном кредите?

- а) закладной лист;
- б) частную закладную;
- в) закладную с корректируемой процентной ставкой;
- г) закладную с поправкой на инфляцию.

### **Литература ко второму вопросу**

1 Р. М. Нуреев. Курс микроэкономики. Учебник для вузов. – 2-е изд., изм. – М.: НОРМА (Издательская группа НОРМА– ИНФРА М), 2000. – С. 386-393.

### **Вариант 9**

**Задание 1. Определите категории:** авальный кредит, распределение рисков, сдельно-премиальная зарплата, сельскохозяйственный кооператив, фермерское хозяйство.

**Задание 2. Теоретический вопрос.** Основные формы деловых предприятий: индивидуальная частная фирма, партнерство, корпорация.

**Задание 3. Упражнение.** Земельный собственник получает ежегодно 3000 тыс. долл. ренты. Банк оплачивает вкладчикам 3% годовых. Как изменится цена земли, если рента увеличится на 1000долл., а банковский процент снизится до 2%.

**Задание 4. Задача.** Авансированный капитал фирмы равен 800 тыс. долл., постоянный капитал – 600 тыс. долл.; потребляемая в одном цикле часть постоянного капитала составляет 150 тыс. долл.: норма прибавочной стоимости – 300%. Подсчитайте: капиталистические издержки производства, стоимость товара, норму прибыли.

**Задание 5. Задача.** Авансированный капитал предприятия составляет 500 тыс. долл., в том числе постоянный капитал – 400 тыс. долл. Норма амортизации основного капитала – 25%, оборотный капитал оборачивается 4 раза в год. Подсчитайте общий оборот капитала в течение года.

**Задание 6. Сложная задача.** Капитал, вложенный в каждый из трех участков, составляет 400 ден. ед., средняя норма прибыли - 20%. На первом участке собран урожай весом 6 т., на втором -10 т., на третьем -12 т. Определите дифференциальную ренту I по плодородию.

#### **Задание 7. Тесты**

1 Укажите фактор, не связанный с моральным износом машин:

- а) создание новых, более производительных машин;
- б) производственное использование (изнашивание);
- в) удешевление производства машин;
- г) появление новых отраслей производства.

2 Какой из перечисленных ниже видов риска нельзя застраховать?

- а) опасность возникновения потерь в результате преждевременной смерти;
- б) опасность возникновения в результате повышения налогов;
- в) опасность возникновения потерь в результате профессиональных ошибок;
- г) косвенная потеря собственности.

3 Каковы экономические результаты функционирования ссудного капитала?

- а) увеличивается совокупная масса прибыли, производимая промышленным капиталом;

- б) ускоряется оборот промышленного и торгового капитала;
- в) создаются монополии в промышленности и торговле;
- г) обостряется конкурентная борьба между предпринимателями за более выгодное помещение капитала;
- д) верны ответы а) и б);
- е) верны ответы б) и в);
- ж) верны ответы в) и г);
- з) все предыдущие ответы верны.

4 Чем феодальная рента отличается от капиталистической земельной ренты?

- а) субъектами отношений;
- б) объектами отношений;
- в) формами изъятия ренты;
- г) формой принуждения, на которой основаны все рентные отношения;
- д) все ответы верны;
- е) все ответы неверны.

5 Что произойдет с рентой в добывающей промышленности, если наиболее благоприятные по условиям добычи месторождения будут выработаны?

- а) рента понизится;
- б) рента повысится;
- в) рента не изменится.

#### **Литература ко второму вопросу**

1 Нуреев Р.М. Курс микроэкономики. Учебник для вузов. Издание второе, измененное.-М.:НОРМА, 2000.-С.187-191.

2 Макконнелл К., Брю С. Экономикс. Т.1. - М.: Республика, 1992. - С. 108-111.

## Вариант 10

**Задание 1. Определите категории:** потребительский кредит, рентные отношения, субаренда, объединение рисков, дифференциальная рента I.

**Задание 2. Теоретический вопрос.** Экономическая природа фирмы. Основные типы контрактов.

**Задание 3. Упражнение.** Предположим, что Алла, Лена, Костя, Денис и Эдик получают доходы в размере 1000, 500, 250, 150 и 100 гривень соответственно. Постройте кривую Лоренца для такой экономики из пяти человек и дайте необходимые пояснения.

**Задание 4. Задача.** Собственный капитал банка составляет 4 млн. долл., заемный капитал – 44 млн. долл. Банк отдал в ссуду 40 млн. долл. Процент, уплачиваемый вкладчиком, равен 4%, а процент, взимаемый с заемщиков, равен 15% годовых, издержки на ведение банковской деятельности составляют 1,24 млн. долл. в год. Подсчитайте массу и норму прибыли банка.

**Задание 5. Задача.** Авансированный капитал составляет 480 млн. долл., переменный капитал – 80 млн. долл., стоимость сырья, топлива, вспомогательных материалов – 100 млн. долл. Машины имеют средний срок службы 10 лет. Определите размеры амортизационного фонда через 5 лет.

**Задание 6. Сложная задача.** Капитал в отрасли А равен 260 (переменный = 60), в отрасли Б – 500 (переменный = 100), в отрасли В – 240 (переменный = 40). Норма прибавочной стоимости составляет 50%. Потребленный постоянный капитал в отрасли Ф=30, в отрасли Б=120, в отрасли В=20. В каких пределах цена производства отклоняется от стоимости

### Задание 7. Тесты

1 Какому виду износа подвергается средство труда, если произведены опытные образцы новых станков?

- а) моральному износу;
- б) физическому износу;
- в) и моральному и физическому износу;

г) все предыдущие ответы неверны.

2 Что не может быть методом контроля за риском?

а) минимизация потерь;

б) уклонение от риска;

в) диверсификация;

г) передача контроля за риском.

3 Из перечисленных ниже видов кредита укажите те, которые не выдаются в денежной форме:

а) контокоррентный;

б) дисконтный;

в) акцептный;

г) авальный;

д) ломбардный;

е) ипотечный;

ж) все ответы неверны;

з) верны ответы в) и г);

и) верны ответы д), в) и г).

4 Какие типы сельскохозяйственных предприятий можно отнести к традиционным?

а) лендлоризм;

б) плантационное хозяйство;

в) парцеллярное хозяйство;

г) фермерское хозяйство;

д) кооперативы;

е) агропромышленные фирмы;

ж) государственные хозяйства;

з) верны ответы а), б), в);

и) верны ответы а), б), в), г);

к) верны ответы г), д), е), ж);



л) верны ответы д), е), ж);

м) все ответы верны.

5 Рост цены земли в длительной перспективе объясняется тем, что:

а) снижается норма банковского процента;

б) растет земельная рента и спрос на землю;

в) образуются монополии в сельском хозяйстве;

г) верны ответы а) и б);

д) верны ответы б) и в);

е) все предыдущие ответы верны.

### **Литература ко второму вопросу**

1 Нуреев Р.М. Курс микроэкономики. Учебник для вузов. Издание второе, измененное.-М.:НОРМА, 2000.-С.183-185.

Приложение А  
ОБРАЗЕЦ ОФОРМЛЕНИЯ ТИТУЛЬНОГО ЛИСТА

Министерство образования и науки Украины  
Донбасская государственная машиностроительная академия  
Кафедра экономической теории

КОНТРОЛЬНАЯ РАБОТА № 1  
по дисциплине «Политическая экономия»

Выполнил: студент группы Э-0-2зу

Иванов А. В., шифр 45678

Проверил:

Краматорск 2001

КОНТРОЛЬНЫЕ ЗАДАНИЯ  
И МЕТОДИЧЕСКИЕ УКАЗАНИЯ  
по дисциплине «Политическая экономия» для студентов экономических  
специальностей академии

Составители: Ольга Константиновна Гаршина  
Елена Алексеевна Волошина

Подп. в печать

Формат 60\*90/16

Офсетная печать

Усл. Печ.Л.

Тираж